

Муниципальное бюджетное общеобразовательное учреждение

«Гимназия № 1»

города Курчатова Курской области

ПРИНЯТО

решением кафедры
естественных наук
протокол №1 от 24.08.2023 г.

СОГЛАСОВАНО

Заместитель директора по УВР
Лашина Е.Л.

РАБОЧАЯ ПРОГРАММА

учебного предмета «Физика»

для основного общего образования

Срок освоения программы 3 года (с 7 по 9 класс)

Составитель: Ушакова Г.Н. , учитель физики

2023

ПОЯСНИТЕЛЬНАЯ ЗАПИСКА

Программа по физике на уровне основного общего образования составлена на основе положений и требований к результатам освоения на базовом уровне основной образовательной программы, представленных в ФГОС ООО, а также с учётом федеральной рабочей программы воспитания и Концепции преподавания учебного предмета «Физика».

Содержание программы по физике направлено на формирование естественно-научной грамотности обучающихся и организацию изучения физики на деятельностной основе. В программе по физике учитываются возможности учебного предмета в реализации требований ФГОС ООО к планируемым личностным и метапредметным результатам обучения, а также межпредметные связи естественно-научных учебных предметов на уровне основного общего образования.

Программа по физике устанавливает распределение учебного материала по годам обучения (по классам), предлагает примерную последовательность изучения тем, основанную на логике развития предметного содержания и учёте возрастных особенностей обучающихся.

Программа по физике разработана с целью оказания методической помощи учителю в создании рабочей программы по учебному предмету.

Физика является системообразующим для естественно-научных учебных предметов, поскольку физические законы лежат в основе процессов и явлений, изучаемых химией, биологией, астрономией и физической географией, вносит вклад в естественно-научную картину мира, предоставляет наиболее ясные образцы применения научного метода познания, то есть способа получения достоверных знаний о мире.

Одна из главных задач физического образования в структуре общего образования состоит в формировании естественно-научной грамотности и интереса к науке у обучающихся.

Изучение физики на базовом уровне предполагает овладение следующими компетентностями, характеризующими естественно-научную грамотность:

- научно объяснять явления;
- оценивать и понимать особенности научного исследования;
- интерпретировать данные и использовать научные доказательства для получения выводов.

Цели изучения физики на уровне основного общего образования определены в Концепции преподавания учебного предмета «Физика» в образовательных организациях Российской Федерации, реализующих основные общеобразовательные программы, утверждённой решением

Коллегии Министерства просвещения Российской Федерации (протокол от 3 декабря 2019 г. № ПК-4вн).

Цели изучения физики:

- приобретение интереса и стремления обучающихся к научному изучению природы, развитие их интеллектуальных и творческих способностей;
- развитие представлений о научном методе познания и формирование исследовательского отношения к окружающим явлениям;
- формирование научного мировоззрения как результата изучения основ строения материи и фундаментальных законов физики;
- формирование представлений о роли физики для развития других естественных наук, техники и технологий;
- развитие представлений о возможных сферах будущей профессиональной деятельности, связанной с физикой, подготовка к дальнейшему обучению в этом направлении.

Достижение этих целей программы по физике на уровне основного общего образования обеспечивается решением следующих **задач**:

- приобретение знаний о дискретном строении вещества, о механических, тепловых, электрических, магнитных и квантовых явлениях;
- приобретение умений описывать и объяснять физические явления с использованием полученных знаний;
- освоение методов решения простейших расчётных задач с использованием физических моделей, творческих и практико-ориентированных задач;
- развитие умений наблюдать природные явления и выполнять опыты, лабораторные работы и экспериментальные исследования с использованием измерительных приборов;
- освоение приёмов работы с информацией физического содержания, включая информацию о современных достижениях физики, анализ и критическое оценивание информации;
- знакомство со сферами профессиональной деятельности, связанными с физикой, и современными технологиями, основанными на достижениях физической науки.

На изучение физики (базовый уровень) на уровне основного общего образования отводится 238 часов: в 7 классе – 68 часов (2 часа в неделю), в 8 классе – 68 часов (2 часа в неделю), в 9 классе – 102 часа (3 часа в неделю).

Предлагаемый в программе по физике перечень лабораторных работ и опытов носит рекомендательный характер, учитель делает выбор проведения

лабораторных работ и опытов с учётом индивидуальных особенностей обучающихся, списка экспериментальных заданий, предлагаемых в рамках основного государственного экзамена по физике.

СОДЕРЖАНИЕ ОБУЧЕНИЯ

7 КЛАСС

Раздел 1. Физика и её роль в познании окружающего мира.

Физика – наука о природе. Явления природы. Физические явления: механические, тепловые, электрические, магнитные, световые, звуковые.

Физические величины. Измерение физических величин. Физические приборы. Погрешность измерений. Международная система единиц.

Как физика и другие естественные науки изучают природу. Естественно-научный метод познания: наблюдение, постановка научного вопроса, выдвижение гипотез, эксперимент по проверке гипотез, объяснение наблюдаемого явления. Описание физических явлений с помощью моделей.

Демонстрации.

1. Механические, тепловые, электрические, магнитные, световые явления.
2. Физические приборы и процедура прямых измерений аналоговым и цифровым прибором.

Лабораторные работы и опыты.

1. Определение цены деления шкалы измерительного прибора.
2. Измерение расстояний.
3. Измерение объёма жидкости и твёрдого тела.
4. Определение размеров малых тел.
5. Измерение температуры при помощи жидкостного термометра и датчика температуры.
6. Проведение исследования по проверке гипотезы: дальность полёта шарика, пущенного горизонтально, тем больше, чем больше высота пуска.

Раздел 2. Первоначальные сведения о строении вещества.

Строение вещества: атомы и молекулы, их размеры. Опыты, доказывающие дискретное строение вещества.

Движение частиц вещества. Связь скорости движения частиц с температурой. Броуновское движение, диффузия. Взаимодействие частиц вещества: притяжение и отталкивание.

Агрегатные состояния вещества: строение газов, жидкостей и твёрдых (кристаллических) тел. Взаимосвязь между свойствами веществ в разных агрегатных состояниях и их атомно-молекулярным строением. Особенности агрегатных состояний воды.

Демонстрации.

1. Наблюдение броуновского движения.

2. Наблюдение диффузии.
3. Наблюдение явлений, объясняющихся притяжением или отталкиванием частиц вещества.

Лабораторные работы и опыты.

1. Оценка диаметра атома методом рядов (с использованием фотографий).
2. Опыты по наблюдению теплового расширения газов.
3. Опыты по обнаружению действия сил молекулярного притяжения.

Раздел 3. Движение и взаимодействие тел.

Механическое движение. Равномерное и неравномерное движение. Скорость. Средняя скорость при неравномерном движении. Расчёт пути и времени движения.

Явление инерции. Закон инерции. Взаимодействие тел как причина изменения скорости движения тел. Масса как мера инертности тела. Плотность вещества. Связь плотности с количеством молекул в единице объёма вещества.

Сила как характеристика взаимодействия тел. Сила упругости и закон Гука. Измерение силы с помощью динамометра. Явление тяготения и сила тяжести. Сила тяжести на других планетах. Вес тела. Невесомость. Сложение сил, направленных по одной прямой. Равнодействующая сил. Сила трения. Трение скольжения и трение покоя. Трение в природе и технике.

Демонстрации.

1. Наблюдение механического движения тела.
2. Измерение скорости прямолинейного движения.
3. Наблюдение явления инерции.
4. Наблюдение изменения скорости при взаимодействии тел.
5. Сравнение масс по взаимодействию тел.
6. Сложение сил, направленных по одной прямой.

Лабораторные работы и опыты.

1. Определение скорости равномерного движения (шарика в жидкости, модели электрического автомобиля и так далее).
2. Определение средней скорости скольжения бруска или шарика по наклонной плоскости.
3. Определение плотности твёрдого тела.
4. Опыты, демонстрирующие зависимость растяжения (деформации) пружины от приложенной силы.
5. Опыты, демонстрирующие зависимость силы трения скольжения от веса тела и характера соприкасающихся поверхностей.

Раздел 4. Давление твёрдых тел, жидкостей и газов.

Давление. Способы уменьшения и увеличения давления. Давление газа. Зависимость давления газа от объёма, температуры. Передача давления твёрдыми телами, жидкостями и газами. Закон Паскаля. Пневматические машины. Зависимость давления жидкости от глубины. Гидростатический парадокс. Сообщающиеся сосуды. Гидравлические механизмы.

Атмосфера Земли и атмосферное давление. Причины существования воздушной оболочки Земли. Опыт Торричелли. Измерение атмосферного давления. Зависимость атмосферного давления от высоты над уровнем моря. Приборы для измерения атмосферного давления.

Действие жидкости и газа на погружённое в них тело. Выталкивающая (архимедова) сила. Закон Архимеда. Плавание тел. Воздухоплавание.

Демонстрации.

1. Зависимость давления газа от температуры.
2. Передача давления жидкостью и газом.
3. Сообщающиеся сосуды.
4. Гидравлический пресс.
5. Проявление действия атмосферного давления.
6. Зависимость выталкивающей силы от объёма погружённой части тела и плотности жидкости.
7. Равенство выталкивающей силы весу вытесненной жидкости.
8. Условие плавания тел: плавание или погружение тел в зависимости от соотношения плотностей тела и жидкости.

Лабораторные работы и опыты.

1. Исследование зависимости веса тела в воде от объёма погружённой в жидкость части тела.
2. Определение выталкивающей силы, действующей на тело, погружённое в жидкость.
3. Проверка независимости выталкивающей силы, действующей на тело в жидкости, от массы тела.
4. Опыты, демонстрирующие зависимость выталкивающей силы, действующей на тело в жидкости, от объёма погружённой в жидкость части тела и от плотности жидкости.
5. Конструирование ареометра или конструирование лодки и определение её грузоподъёмности.

Раздел 5. Работа и мощность. Энергия.

Механическая работа. Мощность.

Простые механизмы: рычаг, блок, наклонная плоскость. Правило равновесия рычага. Применение правила равновесия рычага к блоку.

«Золотое правило» механики. КПД простых механизмов. Простые механизмы в быту и технике.

Механическая энергия. Кинетическая и потенциальная энергия. Превращение одного вида механической энергии в другой. Закон сохранения энергии в механике.

Демонстрации.

1. Примеры простых механизмов.

Лабораторные работы и опыты.

1. Определение работы силы трения при равномерном движении тела по горизонтальной поверхности.
2. Исследование условий равновесия рычага.
3. Измерение КПД наклонной плоскости.
4. Изучение закона сохранения механической энергии.

8 КЛАСС

Раздел 6. Тепловые явления.

Основные положения молекулярно--кинетической теории строения вещества. Масса и размеры атомов и молекул. Опыты, подтверждающие основные положения молекулярно-кинетической теории.

Модели твёрдого, жидкого и газообразного состояний вещества. Кристаллические и аморфные тела. Объяснение свойств газов, жидкостей и твёрдых тел на основе положений молекулярно--кинетической теории. Смачивание и капиллярные явления. Тепловое расширение и сжатие.

Температура. Связь температуры со скоростью теплового движения частиц. Внутренняя энергия. Способы изменения внутренней энергии: теплопередача и совершение работы. Виды теплопередачи: теплопроводность, конвекция, излучение.

Количество теплоты. Удельная теплоёмкость вещества. Теплообмен и тепловое равновесие. Уравнение теплового баланса. Плавление и отвердевание кристаллических веществ. Удельная теплота плавления. Парообразование и конденсация. Испарение. Кипение. Удельная теплота парообразования. Зависимость температуры кипения от атмосферного давления.

Влажность воздуха.

Энергия топлива. Удельная теплота сгорания.

Принципы работы тепловых двигателей КПД теплового двигателя. Тепловые двигатели и защита окружающей среды.

Закон сохранения и превращения энергии в тепловых процессах.

Демонстрации.

1. Наблюдение броуновского движения.

2. Наблюдение диффузии.
3. Наблюдение явлений смачивания и капиллярных явлений.
4. Наблюдение теплового расширения тел.
5. Изменение давления газа при изменении объёма и нагревании или охлаждении.
6. Правила измерения температуры.
7. Виды теплопередачи.
8. Охлаждение при совершении работы.
9. Нагревание при совершении работы внешними силами.
10. Сравнение теплоёмкостей различных веществ.
11. Наблюдение кипения.
12. Наблюдение постоянства температуры при плавлении.
13. Модели тепловых двигателей.

Лабораторные работы и опыты.

1. Опыты по обнаружению действия сил молекулярного притяжения.
2. Опыты по выращиванию кристаллов поваренной соли или сахара.
3. Опыты по наблюдению теплового расширения газов, жидкостей и твёрдых тел.
4. Определение давления воздуха в баллоне шприца.
5. Опыты, демонстрирующие зависимость давления воздуха от его объёма и нагревания или охлаждения.
6. Проверка гипотезы линейной зависимости длины столбика жидкости в термометрической трубке от температуры.
7. Наблюдение изменения внутренней энергии тела в результате теплопередачи и работы внешних сил.
8. Исследование явления теплообмена при смешивании холодной и горячей воды.
9. Определение количества теплоты, полученного водой при теплообмене с нагретым металлическим цилиндром.
10. Определение удельной теплоёмкости вещества.
11. Исследование процесса испарения.
12. Определение относительной влажности воздуха.
13. Определение удельной теплоты плавления льда.

Раздел 7. Электрические и магнитные явления.

Электризация тел. Два рода электрических зарядов. Взаимодействие заряженных тел. Закон Кулона (зависимость силы взаимодействия заряженных тел от величины зарядов и расстояния между телами).

Электрическое поле. Напряжённость электрического поля. Принцип суперпозиции электрических полей (на качественном уровне).

Носители электрических зарядов. Элементарный электрический заряд. Строение атома. Проводники и диэлектрики. Закон сохранения электрического заряда.

Электрический ток. Условия существования электрического тока. Источники постоянного тока. Действия электрического тока (тепловое, химическое, магнитное). Электрический ток в жидкостях и газах.

Электрическая цепь. Сила тока. Электрическое напряжение. Сопротивление проводника. Удельное сопротивление вещества. Закон Ома для участка цепи. Последовательное и параллельное соединение проводников.

Работа и мощность электрического тока. Закон Джоуля–Ленца. Электрические цепи и потребители электрической энергии в быту. Короткое замыкание.

Постоянные магниты. Взаимодействие постоянных магнитов. Магнитное поле. Магнитное поле Земли и его значение для жизни на Земле. Опыт Эрстеда. Магнитное поле электрического тока. Применение электромагнитов в технике. Действие магнитного поля на проводник с током. Электродвигатель постоянного тока. Использование электродвигателей в технических устройствах и на транспорте.

Опыты Фарадея. Явление электромагнитной индукции. Правило Ленца. Электрогенератор. Способы получения электрической энергии. Электростанции на возобновляемых источниках энергии.

Демонстрации.

1. Электризация тел.
2. Два рода электрических зарядов и взаимодействие заряженных тел.
3. Устройство и действие электроскопа.
4. Электростатическая индукция.
5. Закон сохранения электрических зарядов.
6. Проводники и диэлектрики.
7. Моделирование силовых линий электрического поля.
8. Источники постоянного тока.
9. Действия электрического тока.
10. Электрический ток в жидкостях.
11. Газовый разряд.
12. Измерение силы тока амперметром.
13. Измерение электрического напряжения вольтметром.
14. Реостат и магазин сопротивлений.
15. Взаимодействие постоянных магнитов.
16. Моделирование невозможности разделения полюсов магнита.

17. Моделирование магнитных полей постоянных магнитов.
18. Опыт Эрстеда.
19. Магнитное поле тока. Электромагнит.
20. Действие магнитного поля на проводник с током.
21. Электродвигатель постоянного тока.
22. Исследование явления электромагнитной индукции.
23. Опыты Фарадея.
24. Зависимость направления индукционного тока от условий его возникновения.
25. Электрогенератор постоянного тока.

Лабораторные работы и опыты.

1. Опыты по наблюдению электризации тел индукцией и при соприкосновении.
2. Исследование действия электрического поля на проводники и диэлектрики.
3. Сборка и проверка работы электрической цепи постоянного тока.
4. Измерение и регулирование силы тока.
5. Измерение и регулирование напряжения.
6. Исследование зависимости силы тока, идущего через резистор, от сопротивления резистора и напряжения на резисторе.
7. Опыты, демонстрирующие зависимость электрического сопротивления проводника от его длины, площади поперечного сечения и материала.
8. Проверка правила сложения напряжений при последовательном соединении двух резисторов.
9. Проверка правила для силы тока при параллельном соединении резисторов.
10. Определение работы электрического тока, идущего через резистор.
11. Определение мощности электрического тока, выделяемой на резисторе.
12. Исследование зависимости силы тока, идущего через лампочку, от напряжения на ней.
13. Определение КПД нагревателя.
14. Исследование магнитного взаимодействия постоянных магнитов.
15. Изучение магнитного поля постоянных магнитов при их объединении и разделении.
16. Исследование действия электрического тока на магнитную стрелку.

17. Опыты, демонстрирующие зависимость силы взаимодействия катушки с током и магнита от силы тока и направления тока в катушке.
18. Изучение действия магнитного поля на проводник с током.
19. Конструирование и изучение работы электродвигателя.
20. Измерение КПД электродвигательной установки.
21. Опыты по исследованию явления электромагнитной индукции: исследование изменений значения и направления индукционного тока.

9 КЛАСС

Раздел 8. Механические явления.

Механическое движение. Материальная точка. Система отсчёта. Относительность механического движения. Равномерное прямолинейное движение. Неравномерное прямолинейное движение. Средняя и мгновенная скорость тела при неравномерном движении.

Ускорение. Равноускоренное прямолинейное движение. Свободное падение. Опыты Галилея.

Равномерное движение по окружности. Период и частота обращения. Линейная и угловая скорости. Центробежное ускорение.

Первый закон Ньютона. Второй закон Ньютона. Третий закон Ньютона. Принцип суперпозиции сил.

Сила упругости. Закон Гука. Сила трения: сила трения скольжения, сила трения покоя, другие виды трения.

Сила тяжести и закон всемирного тяготения. Ускорение свободного падения. Движение планет вокруг Солнца. Первая космическая скорость. Невесомость и перегрузки.

Равновесие материальной точки. Абсолютно твёрдое тело. Равновесие твёрдого тела с закреплённой осью вращения. Момент силы. Центр тяжести.

Импульс тела. Изменение импульса. Импульс силы. Закон сохранения импульса. Реактивное движение.

Механическая работа и мощность. Работа сил тяжести, упругости, трения. Связь энергии и работы. Потенциальная энергия тела, поднятого над поверхностью земли. Потенциальная энергия сжатой пружины. Кинетическая энергия. Теорема о кинетической энергии. Закон сохранения механической энергии.

Демонстрации.

1. Наблюдение механического движения тела относительно разных тел отсчёта.

2. Сравнение путей и траекторий движения одного и того же тела относительно разных тел отсчёта.
3. Измерение скорости и ускорения прямолинейного движения.
4. Исследование признаков равноускоренного движения.
5. Наблюдение движения тела по окружности.
6. Наблюдение механических явлений, происходящих в системе отсчёта «Тележка» при её равномерном и ускоренном движении относительно кабинета физики.
7. Зависимость ускорения тела от массы тела и действующей на него силы.
8. Наблюдение равенства сил при взаимодействии тел.
9. Изменение веса тела при ускоренном движении.
10. Передача импульса при взаимодействии тел.
11. Преобразования энергии при взаимодействии тел.
12. Сохранение импульса при неупругом взаимодействии.
13. Сохранение импульса при абсолютно упругом взаимодействии.
14. Наблюдение реактивного движения.
15. Сохранение механической энергии при свободном падении.
16. Сохранение механической энергии при движении тела под действием пружины.

Лабораторные работы и опыты.

1. Конструирование тракта для разгона и дальнейшего равномерного движения шарика или тележки.
2. Определение средней скорости скольжения бруска или движения шарика по наклонной плоскости.
3. Определение ускорения тела при равноускоренном движении по наклонной плоскости.
4. Исследование зависимости пути от времени при равноускоренном движении без начальной скорости.
5. Проверка гипотезы: если при равноускоренном движении без начальной скорости пути относятся как ряд нечётных чисел, то соответствующие промежутки времени одинаковы.
6. Исследование зависимости силы трения скольжения от силы нормального давления.
7. Определение коэффициента трения скольжения.
8. Определение жёсткости пружины.
9. Определение работы силы трения при равномерном движении тела по горизонтальной поверхности.

10. Определение работы силы упругости при подъёме груза с использованием неподвижного и подвижного блоков.
11. Изучение закона сохранения энергии.

Раздел 9. Механические колебания и волны.

Колебательное движение. Основные характеристики колебаний: период, частота, амплитуда. Математический и пружинный маятники. Превращение энергии при колебательном движении.

Затухающие колебания. Вынужденные колебания. Резонанс. Механические волны. Свойства механических волн. Продольные и поперечные волны. Длина волны и скорость её распространения. Механические волны в твёрдом теле, сейсмические волны.

Звук. Громкость звука и высота тона. Отражение звука. Инфразвук и ультразвук.

Демонстрации.

1. Наблюдение колебаний тел под действием силы тяжести и силы упругости.
2. Наблюдение колебаний груза на нити и на пружине.
3. Наблюдение вынужденных колебаний и резонанса.
4. Распространение продольных и поперечных волн (на модели).
5. Наблюдение зависимости высоты звука от частоты.
6. Акустический резонанс.

Лабораторные работы и опыты.

1. Определение частоты и периода колебаний математического маятника.
2. Определение частоты и периода колебаний пружинного маятника.
3. Исследование зависимости периода колебаний подвешенного к нити груза от длины нити.
4. Исследование зависимости периода колебаний пружинного маятника от массы груза.
5. Проверка независимости периода колебаний груза, подвешенного к нити, от массы груза.
6. Опыты, демонстрирующие зависимость периода колебаний пружинного маятника от массы груза и жёсткости пружины.
7. Измерение ускорения свободного падения.

Раздел 10. Электромагнитное поле и электромагнитные волны.

Электромагнитное поле. Электромагнитные волны. Свойства электромагнитных волн. Шкала электромагнитных волн. Использование электромагнитных волн для сотовой связи.

Электромагнитная природа света. Скорость света. Волновые свойства света.

Демонстрации.

1. Свойства электромагнитных волн.
2. Волновые свойства света.

Лабораторные работы и опыты.

1. Изучение свойств электромагнитных волн с помощью мобильного телефона.

Раздел 11. Световые явления.

Лучевая модель света. Источники света. Прямолинейное распространение света. Затмения Солнца и Луны. Отражение света. Плоское зеркало. Закон отражения света.

Преломление света. Закон преломления света. Полное внутреннее отражение света. Использование полного внутреннего отражения в оптических световодах.

Линза. Ход лучей в линзе. Оптическая система фотоаппарата, микроскопа и телескопа. Глаз как оптическая система. Близорукость и дальнозоркость.

Разложение белого света в спектр. Опыты Ньютона. Сложение спектральных цветов. Дисперсия света.

Демонстрации.

1. Прямолинейное распространение света.
2. Отражение света.
3. Получение изображений в плоском, вогнутом и выпуклом зеркалах.
4. Преломление света.
5. Оптический световод.
6. Ход лучей в собирающей линзе.
7. Ход лучей в рассеивающей линзе.
8. Получение изображений с помощью линз.
9. Принцип действия фотоаппарата, микроскопа и телескопа.
10. Модель глаза.
11. Разложение белого света в спектр.
12. Получение белого света при сложении света разных цветов.

Лабораторные работы и опыты.

1. Исследование зависимости угла отражения светового луча от угла падения.
2. Изучение характеристик изображения предмета в плоском зеркале.
3. Исследование зависимости угла преломления светового луча от угла падения на границе «воздух–стекло».

4. Получение изображений с помощью собирающей линзы.
5. Определение фокусного расстояния и оптической силы собирающей линзы.
6. Опыты по разложению белого света в спектр.
7. Опыты по восприятию цвета предметов при их наблюдении через цветные фильтры.

Раздел 12. Квантовые явления.

Опыты Резерфорда и планетарная модель атома. Модель атома Бора. Испускание и поглощение света атомом. Кванты. Линейчатые спектры.

Радиоактивность. Альфа-, бета- и гамма-излучения. Строение атомного ядра. Нуклонная модель атомного ядра. Изотопы. Радиоактивные превращения. Период полураспада атомных ядер.

Ядерные реакции. Законы сохранения зарядового и массового чисел. Энергия связи атомных ядер. Связь массы и энергии. Реакции синтеза и деления ядер. Источники энергии Солнца и звёзд.

Ядерная энергетика. Действия радиоактивных излучений на живые организмы.

Демонстрации.

1. Спектры излучения и поглощения.
2. Спектры различных газов.
3. Спектр водорода.
4. Наблюдение треков в камере Вильсона.
5. Работа счётчика ионизирующих излучений.
6. Регистрация излучения природных минералов и продуктов.

Лабораторные работы и опыты.

1. Наблюдение сплошных и линейчатых спектров излучения.
2. Исследование треков: измерение энергии частицы по тормозному пути (по фотографиям).
3. Измерение радиоактивного фона.

Повторительно-обобщающий модуль.

Повторительно--обобщающий модуль предназначен для систематизации и обобщения предметного содержания и опыта деятельности, приобретённого при изучении всего курса физики, а также для подготовки к основному государственному экзамену по физике для обучающихся, выбравших этот учебный предмет.

При изучении данного модуля реализуются и систематизируются виды деятельности, на основе которых обеспечивается достижение предметных и метапредметных планируемых результатов обучения, формируется естественнонаучная грамотность: освоение научных методов исследования

явлений природы и техники, овладение умениями объяснять физические явления, применяя полученные знания, решать задачи, в том числе качественные и экспериментальные.

Принципиально деятельностный характер данного раздела реализуется за счёт того, что обучающиеся выполняют задания, в которых им предлагается:

на основе полученных знаний распознавать и научно объяснять физические явления в окружающей природе и повседневной жизни;

использовать научные методы исследования физических явлений, в том числе для проверки гипотез и получения теоретических выводов;

объяснять научные основы наиболее важных достижений современных технологий, например, практического использования различных источников энергии на основе закона превращения и сохранения всех известных видов энергии.

ПЛАНИРУЕМЫЕ РЕЗУЛЬТАТЫ ОСВОЕНИЯ ПРОГРАММЫ ПО ФИЗИКЕ НА УРОВНЕ ОСНОВНОГО ОБЩЕГО ОБРАЗОВАНИЯ

Изучение физики на уровне основного общего образования направлено на достижение личностных, метапредметных и предметных образовательных результатов.

В результате изучения физики на уровне основного общего образования у обучающегося будут сформированы следующие личностные результаты в части:

- **1) патриотического воспитания:**

- – проявление интереса к истории и современному состоянию российской физической науки;
- – ценностное отношение к достижениям российских учёных--физиков;

- **2) гражданского и духовно-нравственного воспитания:**

- – готовность к активному участию в обсуждении общественно значимых и этических проблем, связанных с практическим применением достижений физики;
- – осознание важности морально--этических принципов в деятельности учёного;

- **3) эстетического воспитания:**

- – восприятие эстетических качеств физической науки: её гармоничного построения, строгости, точности, лаконичности;

- **4) ценности научного познания:**

- – осознание ценности физической науки как мощного инструмента познания мира, основы развития технологий, важнейшей составляющей культуры;
- – развитие научной любознательности, интереса к исследовательской деятельности;

- **5) формирования культуры здоровья и эмоционального благополучия:**

- – осознание ценности безопасного образа жизни в современном технологическом мире, важности правил безопасного поведения на транспорте, на дорогах, с электрическим и тепловым оборудованием в домашних условиях;
- – сформированность навыка рефлексии, признание своего права на ошибку и такого же права у другого человека;

- **б) трудового воспитания:**

- – активное участие в решении практических задач (в рамках семьи, образовательной организации, города, края) технологической и

социальной направленности, требующих в том числе и физических знаний;

- – интерес к практическому изучению профессий, связанных с физикой;
- **7) экологического воспитания:**
- – ориентация на применение физических знаний для решения задач в области окружающей среды, планирования поступков и оценки их возможных последствий для окружающей среды;
- – осознание глобального характера экологических проблем и путей их решения;
- **8) адаптации к изменяющимся условиям социальной и природной среды:**
- – потребность во взаимодействии при выполнении исследований и проектов физической направленности, открытость опыту и знаниям других;
- – повышение уровня своей компетентности через практическую деятельность;
- – потребность в формировании новых знаний, в том числе формулировать идеи, понятия, гипотезы о физических объектах и явлениях;
- – осознание дефицитов собственных знаний и компетентностей в области физики;
- – планирование своего развития в приобретении новых физических знаний;
- – стремление анализировать и выявлять взаимосвязи природы, общества и экономики, в том числе с использованием физических знаний;
- – оценка своих действий с учётом влияния на окружающую среду, возможных глобальных последствий.

МЕТАПРЕДМЕТНЫЕ РЕЗУЛЬТАТЫ

В результате освоения программы по физике на уровне основного общего образования у обучающегося будут сформированы **метапредметные результаты**, включающие познавательные универсальные учебные действия, коммуникативные универсальные учебные действия, регулятивные универсальные учебные действия.

Познавательные универсальные учебные действия

Базовые логические действия:

- выявлять и характеризовать существенные признаки объектов (явлений);
- устанавливать существенный признак классификации, основания для обобщения и сравнения;
- выявлять закономерности и противоречия в рассматриваемых фактах, данных и наблюдениях, относящихся к физическим явлениям;
- выявлять причинно--следственные связи при изучении физических явлений и процессов, делать выводы с использованием дедуктивных и индуктивных умозаключений, выдвигать гипотезы о взаимосвязях физических величин;
- самостоятельно выбирать способ решения учебной физической задачи (сравнение нескольких вариантов решения, выбор наиболее подходящего с учётом самостоятельно выделенных критериев).

Базовые исследовательские действия:

- использовать вопросы как исследовательский инструмент познания;
- проводить по самостоятельно составленному плану опыт, несложный физический эксперимент, небольшое исследование физического явления;
- оценивать на применимость и достоверность информацию, полученную в ходе исследования или эксперимента;
- самостоятельно формулировать обобщения и выводы по результатам проведённого наблюдения, опыта, исследования;
- прогнозировать возможное дальнейшее развитие физических процессов, а также выдвигать предположения об их развитии в новых условиях и контекстах.

Работа с информацией:

- применять различные методы, инструменты и запросы при поиске и отборе информации или данных с учётом предложенной учебной физической задачи;
- анализировать, систематизировать и интерпретировать информацию различных видов и форм представления;
- самостоятельно выбирать оптимальную форму представления информации и иллюстрировать решаемые задачи несложными схемами, диаграммами, иной графикой и их комбинациями.

Коммуникативные универсальные учебные действия:

- в ходе обсуждения учебного материала, результатов лабораторных работ и проектов задавать вопросы по существу обсуждаемой темы и высказывать идеи, нацеленные на решение задачи и поддержание благожелательности общения;

- сопоставлять свои суждения с суждениями других участников диалога, обнаруживать различие и сходство позиций;
- выражать свою точку зрения в устных и письменных текстах;
- публично представлять результаты выполненного физического опыта (эксперимента, исследования, проекта);
- понимать и использовать преимущества командной и индивидуальной работы при решении конкретной физической проблемы;
- принимать цели совместной деятельности, организовывать действия по её достижению: распределять роли, обсуждать процессы и результаты совместной работы, обобщать мнения нескольких людей;
- выполнять свою часть работы, достигая качественного результата по своему направлению и координируя свои действия с другими членами команды;
- оценивать качество своего вклада в общий продукт по критериям, самостоятельно сформулированным участниками взаимодействия.

Регулятивные универсальные учебные действия

Самоорганизация:

- выявлять проблемы в жизненных и учебных ситуациях, требующих для решения физических знаний;
- ориентироваться в различных подходах принятия решений (индивидуальное, принятие решения в группе, принятие решений группой);
- самостоятельно составлять алгоритм решения физической задачи или плана исследования с учётом имеющихся ресурсов и собственных возможностей, аргументировать предлагаемые варианты решений;
- делать выбор и брать ответственность за решение.

Самоконтроль, эмоциональный интеллект:

- давать адекватную оценку ситуации и предлагать план её изменения;
- объяснять причины достижения (недостижения) результатов деятельности, давать оценку приобретённому опыту;
- вносить коррективы в деятельность (в том числе в ход выполнения физического исследования или проекта) на основе новых обстоятельств, изменившихся ситуаций, установленных ошибок, возникших трудностей;
- оценивать соответствие результата цели и условиям;
- ставить себя на место другого человека в ходе спора или дискуссии на научную тему, понимать мотивы, намерения и логику другого;

- признавать своё право на ошибку при решении физических задач или в утверждениях на научные темы и такое же право другого.

ПРЕДМЕТНЫЕ РЕЗУЛЬТАТЫ

К концу обучения **в 7 классе** предметные результаты на базовом уровне должны отражать сформированность у обучающихся умений:

- использовать понятия: физические и химические явления, наблюдение, эксперимент, модель, гипотеза, единицы физических величин, атом, молекула, агрегатные состояния вещества (твёрдое, жидкое, газообразное), механическое движение (равномерное, неравномерное, прямолинейное), траектория, равнодействующая сила, деформация (упругая, пластическая), невесомость, сообщающиеся сосуды;
- различать явления (диффузия, тепловое движение частиц вещества, равномерное движение, неравномерное движение, инерция, взаимодействие тел, равновесие твёрдых тел с закреплённой осью вращения, передача давления твёрдыми телами, жидкостями и газами, атмосферное давление, плавание тел, превращения механической энергии) по описанию их характерных свойств и на основе опытов, демонстрирующих данное физическое явление;
- распознавать проявление изученных физических явлений в окружающем мире, в том числе физические явления в природе: примеры движения с различными скоростями в живой и неживой природе, действие силы трения в природе и технике, влияние атмосферного давления на живой организм, плавание рыб, рычаги в теле человека, при этом переводить практическую задачу в учебную, выделять существенные свойства (признаки) физических явлений;
- описывать изученные свойства тел и физические явления, используя физические величины (масса, объём, плотность вещества, время, путь, скорость, средняя скорость, сила упругости, сила тяжести, вес тела, сила трения, давление (твёрдого тела, жидкости, газа), выталкивающая сила, механическая работа, мощность, плечо силы, момент силы, коэффициент полезного действия механизмов, кинетическая и потенциальная энергия), при описании правильно трактовать физический смысл используемых величин, их обозначения и единицы физических величин, находить формулы, связывающие данную физическую величину с другими величинами, строить графики изученных зависимостей физических величин;

- характеризовать свойства тел, физические явления и процессы, используя правила сложения сил (вдоль одной прямой), закон Гука, закон Паскаля, закон Архимеда, правило равновесия рычага (блока), «золотое правило» механики, закон сохранения механической энергии, при этом давать словесную формулировку закона и записывать его математическое выражение;
- объяснять физические явления, процессы и свойства тел, в том числе и в контексте ситуаций практико-ориентированного характера: выявлять причинно--следственные связи, строить объяснение из 1–2 логических шагов с опорой на 1–2 изученных свойства физических явлений, физических закона или закономерности;
- решать расчётные задачи в 1–2 действия, используя законы и формулы, связывающие физические величины: на основе анализа условия задачи записывать краткое условие, подставлять физические величины в формулы и проводить расчёты, находить справочные данные, необходимые для решения задач, оценивать реалистичность полученной физической величины;
- распознавать проблемы, которые можно решить при помощи физических методов, в описании исследования выделять проверяемое предположение (гипотезу), различать и интерпретировать полученный результат, находить ошибки в ходе опыта, делать выводы по его результатам;
- проводить опыты по наблюдению физических явлений или физических свойств тел: формулировать проверяемые предположения, собирать установку из предложенного оборудования, записывать ход опыта и формулировать выводы;
- выполнять прямые измерения расстояния, времени, массы тела, объёма, силы и температуры с использованием аналоговых и цифровых приборов, записывать показания приборов с учётом заданной абсолютной погрешности измерений;
- проводить исследование зависимости одной физической величины от другой с использованием прямых измерений (зависимости пути равномерно движущегося тела от времени движения тела, силы трения скольжения от веса тела, качества обработки поверхностей тел и независимости силы трения от площади соприкосновения тел, силы упругости от удлинения пружины, выталкивающей силы от объёма погружённой части тела и от плотности жидкости, её независимости от плотности тела, от глубины, на которую погружено тело, условий плавания тел, условий равновесия рычага и блоков), участвовать в

планировании учебного исследования, собирать установку и выполнять измерения, следуя предложенному плану, фиксировать результаты полученной зависимости физических величин в виде предложенных таблиц и графиков, делать выводы по результатам исследования;

- проводить косвенные измерения физических величин (плотность вещества жидкости и твёрдого тела, сила трения скольжения, давление воздуха, выталкивающая сила, действующая на погружённое в жидкость тело, коэффициент полезного действия простых механизмов), следуя предложенной инструкции: при выполнении измерений собирать экспериментальную установку и вычислять значение искомой величины;
- соблюдать правила техники безопасности при работе с лабораторным оборудованием;
- указывать принципы действия приборов и технических устройств: весы, термометр, динамометр, сообщающиеся сосуды, барометр, рычаг, подвижный и неподвижный блок, наклонная плоскость;
- характеризовать принципы действия изученных приборов и технических устройств с опорой на их описания (в том числе: подшипники, устройство водопровода, гидравлический пресс, манометр, высотомер, поршневой насос, ареометр), используя знания о свойствах физических явлений и необходимые физические законы и закономерности;
- приводить примеры (находить информацию о примерах) практического использования физических знаний в повседневной жизни для обеспечения безопасности при обращении с приборами и техническими устройствами, сохранения здоровья и соблюдения норм экологического поведения в окружающей среде;
- осуществлять отбор источников информации в Интернете в соответствии с заданным поисковым запросом, на основе имеющихся знаний и путём сравнения различных источников выделять информацию, которая является противоречивой или может быть недостоверной;
- использовать при выполнении учебных заданий научно--популярную литературу физического содержания, справочные материалы, ресурсы сети Интернет, владеть приёмами конспектирования текста, преобразования информации из одной знаковой системы в другую;
- создавать собственные краткие письменные и устные сообщения на основе 2–3 источников информации физического содержания, в том

числе публично делать краткие сообщения о результатах проектов или учебных исследований, при этом грамотно использовать изученный понятийный аппарат курса физики, сопровождать выступление презентацией;

- при выполнении учебных проектов и исследований распределять обязанности в группе в соответствии с поставленными задачами, следить за выполнением плана действий, адекватно оценивать собственный вклад в деятельность группы, выстраивать коммуникативное взаимодействие, учитывая мнение окружающих.

К концу обучения в 8 классе предметные результаты на базовом уровне должны отражать сформированность у обучающихся умений:

- использовать понятия: масса и размеры молекул, тепловое движение атомов и молекул, агрегатные состояния вещества, кристаллические и аморфные тела, насыщенный и ненасыщенный пар, влажность воздуха, температура, внутренняя энергия, тепловой двигатель, элементарный электрический заряд, электрическое поле, проводники и диэлектрики, постоянный электрический ток, магнитное поле;
- различать явления (тепловое расширение и сжатие, теплопередача, тепловое равновесие, смачивание, капиллярные явления, испарение, конденсация, плавление, кристаллизация (отвердевание), кипение, теплопередача (теплопроводность, конвекция, излучение), электризация тел, взаимодействие зарядов, действия электрического тока, короткое замыкание, взаимодействие магнитов, действие магнитного поля на проводник с током, электромагнитная индукция) по описанию их характерных свойств и на основе опытов, демонстрирующих данное физическое явление;
- распознавать проявление изученных физических явлений в окружающем мире, в том числе физические явления в природе: поверхностное натяжение и капиллярные явления в природе, кристаллы в природе, излучение Солнца, замерзание водоёмов, морские бризы, образование росы, тумана, инея, снега, электрические явления в атмосфере, электричество живых организмов, магнитное поле Земли, дрейф полюсов, роль магнитного поля для жизни на Земле, полярное сияние, при этом переводить практическую задачу в учебную, выделять существенные свойства (признаки) физических явлений;
- описывать изученные свойства тел и физические явления, используя физические величины (температура, внутренняя энергия, количество теплоты, удельная теплоёмкость вещества, удельная теплота

плавления, удельная теплота парообразования, удельная теплота сгорания топлива, коэффициент полезного действия тепловой машины, относительная влажность воздуха, электрический заряд, сила тока, электрическое напряжение, сопротивление проводника, удельное сопротивление вещества, работа и мощность электрического тока), при описании правильно трактовать физический смысл используемых величин, обозначения и единицы физических величин, находить формулы, связывающие данную физическую величину с другими величинами, строить графики изученных зависимостей физических величин;

- характеризовать свойства тел, физические явления и процессы, используя основные положения молекулярно--кинетической теории строения вещества, принцип суперпозиции полей (на качественном уровне), закон сохранения заряда, закон Ома для участка цепи, закон Джоуля–Ленца, закон сохранения энергии, при этом давать словесную формулировку закона и записывать его математическое выражение;
- объяснять физические процессы и свойства тел, в том числе и в контексте ситуаций практико-ориентированного характера: выявлять причинно-следственные связи, строить объяснение из 1–2 логических шагов с опорой на 1–2 изученных свойства физических явлений, физических законов или закономерностей;
- решать расчётные задачи в 2–3 действия, используя законы и формулы, связывающие физические величины: на основе анализа условия задачи записывать краткое условие, выявлять недостаток данных для решения задачи, выбирать законы и формулы, необходимые для её решения, проводить расчёты и сравнивать полученное значение физической величины с известными данными;
- распознавать проблемы, которые можно решить при помощи физических методов, используя описание исследования, выделять проверяемое предположение, оценивать правильность порядка проведения исследования, делать выводы;
- проводить опыты по наблюдению физических явлений или физических свойств тел (капиллярные явления, зависимость давления воздуха от его объёма, температуры, скорости процесса остывания и нагревания при излучении от цвета излучающей (поглощающей) поверхности, скорость испарения воды от температуры жидкости и площади её поверхности, электризация тел и взаимодействие электрических зарядов, взаимодействие постоянных магнитов,

визуализация магнитных полей постоянных магнитов, действия магнитного поля на проводник с током, свойства электромагнита, свойства электродвигателя постоянного тока): формулировать проверяемые предположения, собирать установку из предложенного оборудования, описывать ход опыта и формулировать выводы;

- выполнять прямые измерения температуры, относительной влажности воздуха, силы тока, напряжения с использованием аналоговых приборов и датчиков физических величин, сравнивать результаты измерений с учётом заданной абсолютной погрешности;
- проводить исследование зависимости одной физической величины от другой с использованием прямых измерений (зависимость сопротивления проводника от его длины, площади поперечного сечения и удельного сопротивления вещества проводника, силы тока, идущего через проводник, от напряжения на проводнике, исследование последовательного и параллельного соединений проводников): планировать исследование, собирать установку и выполнять измерения, следуя предложенному плану, фиксировать результаты полученной зависимости в виде таблиц и графиков, делать выводы по результатам исследования;
- проводить косвенные измерения физических величин (удельная теплоёмкость вещества, сопротивление проводника, работа и мощность электрического тока): планировать измерения, собирать экспериментальную установку, следуя предложенной инструкции, и вычислять значение величины;
- соблюдать правила техники безопасности при работе с лабораторным оборудованием;
- характеризовать принципы действия изученных приборов и технических устройств с опорой на их описания (в том числе: система отопления домов, гигрометр, паровая турбина, амперметр, вольтметр, счётчик электрической энергии, электроосветительные приборы, нагревательные электроприборы (примеры), электрические предохранители, электромагнит, электродвигатель постоянного тока), используя знания о свойствах физических явлений и необходимые физические закономерности;
- распознавать простые технические устройства и измерительные приборы по схемам и схематичным рисункам (жидкостный термометр, термос, психрометр, гигрометр, двигатель внутреннего сгорания, электроскоп, реостат), составлять схемы электрических

цепей с последовательным и параллельным соединением элементов, различая условные обозначения элементов электрических цепей;

- приводить примеры (находить информацию о примерах) практического использования физических знаний в повседневной жизни для обеспечения безопасности при обращении с приборами и техническими устройствами, сохранения здоровья и соблюдения норм экологического поведения в окружающей среде;
- осуществлять поиск информации физического содержания в Интернете, на основе имеющихся знаний и путём сравнения дополнительных источников выделять информацию, которая является противоречивой или может быть недостоверной;
- использовать при выполнении учебных заданий научно--популярную литературу физического содержания, справочные материалы, ресурсы сети Интернет, владеть приёмами конспектирования текста, преобразования информации из одной знаковой системы в другую;
- создавать собственные письменные и краткие устные сообщения, обобщая информацию из нескольких источников физического содержания, в том числе публично представлять результаты проектной или исследовательской деятельности, при этом грамотно использовать изученный понятийный аппарат курса физики, сопровождать выступление презентацией;
- при выполнении учебных проектов и исследований физических процессов распределять обязанности в группе в соответствии с поставленными задачами, следить за выполнением плана действий и корректировать его, адекватно оценивать собственный вклад в деятельность группы, выстраивать коммуникативное взаимодействие, проявляя готовность разрешать конфликты.

К концу обучения в 9 классе предметные результаты на базовом уровне должны отражать сформированность у обучающихся умений:

- использовать понятия: система отсчёта, материальная точка, траектория, относительность механического движения, деформация (упругая, пластическая), трение, центростремительное ускорение, невесомость и перегрузки, центр тяжести, абсолютно твёрдое тело, центр тяжести твёрдого тела, равновесие, механические колебания и волны, звук, инфразвук и ультразвук, электромагнитные волны, шкала электромагнитных волн, свет, близорукость и дальновидность, спектры испускания и поглощения, альфа-, бета- и гамма-излучения, изотопы, ядерная энергетика;

- различать явления (равномерное и неравномерное прямолинейное движение, равноускоренное прямолинейное движение, свободное падение тел, равномерное движение по окружности, взаимодействие тел, реактивное движение, колебательное движение (затухающие и вынужденные колебания), резонанс, волновое движение, отражение звука, прямолинейное распространение, отражение и преломление света, полное внутреннее отражение света, разложение белого света в спектр и сложение спектральных цветов, дисперсия света, естественная радиоактивность, возникновение линейчатого спектра излучения) по описанию их характерных свойств и на основе опытов, демонстрирующих данное физическое явление;
- распознавать проявление изученных физических явлений в окружающем мире (в том числе физические явления в природе: приливы и отливы, движение планет Солнечной системы, реактивное движение живых организмов, восприятие звуков животными, землетрясение, сейсмические волны, цунами, эхо, цвета тел, оптические явления в природе, биологическое действие видимого, ультрафиолетового и рентгеновского излучений, естественный радиоактивный фон, космические лучи, радиоактивное излучение природных минералов, действие радиоактивных излучений на организм человека), при этом переводить практическую задачу в учебную, выделять существенные свойства (признаки) физических явлений;
- описывать изученные свойства тел и физические явления, используя физические величины (средняя и мгновенная скорость тела при неравномерном движении, ускорение, перемещение, путь, угловая скорость, сила трения, сила упругости, сила тяжести, ускорение свободного падения, вес тела, импульс тела, импульс силы, механическая работа и мощность, потенциальная энергия тела, поднятого над поверхностью земли, потенциальная энергия сжатой пружины, кинетическая энергия, полная механическая энергия, период и частота колебаний, длина волны, громкость звука и высота тона, скорость света, показатель преломления среды), при описании правильно трактовать физический смысл используемых величин, обозначения и единицы физических величин, находить формулы, связывающие данную физическую величину с другими величинами, строить графики изученных зависимостей физических величин;
- характеризовать свойства тел, физические явления и процессы, используя закон сохранения энергии, закон всемирного тяготения,

принцип суперпозиции сил, принцип относительности Галилея, законы Ньютона, закон сохранения импульса, законы отражения и преломления света, законы сохранения зарядового и массового чисел при ядерных реакциях, при этом давать словесную формулировку закона и записывать его математическое выражение;

- объяснять физические процессы и свойства тел, в том числе и в контексте ситуаций практико-ориентированного характера: выявлять причинно--следственные связи, строить объяснение из 2–3 логических шагов с опорой на 2–3 изученных свойства физических явлений, физических законов или закономерностей;
- решать расчётные задачи (опирающиеся на систему из 2–3 уравнений), используя законы и формулы, связывающие физические величины: на основе анализа условия задачи записывать краткое условие, выявлять недостающие или избыточные данные, выбирать законы и формулы, необходимые для решения, проводить расчёты и оценивать реалистичность полученного значения физической величины;
- распознавать проблемы, которые можно решить при помощи физических методов, используя описание исследования, выделять проверяемое предположение, оценивать правильность порядка проведения исследования, делать выводы, интерпретировать результаты наблюдений и опытов;
- проводить опыты по наблюдению физических явлений или физических свойств тел (изучение второго закона Ньютона, закона сохранения энергии, зависимость периода колебаний пружинного маятника от массы груза и жёсткости пружины и независимость от амплитуды малых колебаний, прямолинейное распространение света, разложение белого света в спектр, изучение свойств изображения в плоском зеркале и свойств изображения предмета в собирающей линзе, наблюдение сплошных и линейчатых спектров излучения): самостоятельно собирать установку из избыточного набора оборудования, описывать ход опыта и его результаты, формулировать выводы;
- проводить при необходимости серию прямых измерений, определяя среднее значение измеряемой величины (фокусное расстояние собирающей линзы), обосновывать выбор способа измерения (измерительного прибора);
- проводить исследование зависимостей физических величин с использованием прямых измерений (зависимость пути от времени

при равноускоренном движении без начальной скорости, периода колебаний математического маятника от длины нити, зависимости угла отражения света от угла падения и угла преломления от угла падения): планировать исследование, самостоятельно собирать установку, фиксировать результаты полученной зависимости физических величин в виде таблиц и графиков, делать выводы по результатам исследования;

- проводить косвенные измерения физических величин (средняя скорость и ускорение тела при равноускоренном движении, ускорение свободного падения, жёсткость пружины, коэффициент трения скольжения, механическая работа и мощность, частота и период колебаний математического и пружинного маятников, оптическая сила собирающей линзы, радиоактивный фон): планировать измерения, собирать экспериментальную установку и выполнять измерения, следуя предложенной инструкции, вычислять значение величины и анализировать полученные результаты с учётом заданной погрешности измерений;
- соблюдать правила техники безопасности при работе с лабораторным оборудованием;
- различать основные признаки изученных физических моделей: материальная точка, абсолютно твёрдое тело, точечный источник света, луч, тонкая линза, планетарная модель атома, нуклонная модель атомного ядра;
- характеризовать принципы действия изученных приборов и технических устройств с опорой на их описания (в том числе: спидометр, датчики положения, расстояния и ускорения, ракета, эхолот, очки, перископ, фотоаппарат, оптические световоды, спектроскоп, дозиметр, камера Вильсона), используя знания о свойствах физических явлений и необходимые физические закономерности;
- использовать схемы и схематичные рисунки изученных технических устройств, измерительных приборов и технологических процессов при решении учебно--практических задач, оптические схемы для построения изображений в плоском зеркале и собирающей линзе;
- приводить примеры (находить информацию о примерах) практического использования физических знаний в повседневной жизни для обеспечения безопасности при обращении с приборами и техническими устройствами, сохранения здоровья и соблюдения норм экологического поведения в окружающей среде;

- осуществлять поиск информации физического содержания в Интернете, самостоятельно формулируя поисковый запрос, находить пути определения достоверности полученной информации на основе имеющихся знаний и дополнительных источников;
- использовать при выполнении учебных заданий научно--популярную литературу физического содержания, справочные материалы, ресурсы сети Интернет, владеть приёмами конспектирования текста, преобразования информации из одной знаковой системы в другую;
- создавать собственные письменные и устные сообщения на основе информации из нескольких источников физического содержания, публично представлять результаты проектной или исследовательской деятельности, при этом грамотно использовать изученный понятийный аппарат изучаемого раздела физики и сопровождать выступление презентацией с учётом особенностей аудитории сверстников.

ТЕМАТИЧЕСКОЕ ПЛАНИРОВАНИЕ 7 КЛАСС

№ п/п	Наименование разделов и тем программы	Количество часов	Использование ЭОР/ЦОР	Деятельность учителя с учетом рабочей программы воспитания
Раздел 1. Физика и её роль в познании окружающего мира				
1.1	Физика - наука о природе	2	Библиотека ЦОК https://m.edsoo.ru/7f416194	- привлечение внимания школьников к ценностному аспекту изучаемых на уроках явлений, - использование воспитательных возможностей содержания учебного предмета через решения задач, проблемных ситуаций для обсуждения в классе; - инициирование и поддержка исследовательской деятельности школьников в рамках реализации ими
1.2	Физические величины	2 1	Библиотека ЦОК https://m.edsoo.ru/7f416194	
1.3	Естественнонаучный метод познания	2 1	Библиотека ЦОК https://m.edsoo.ru/7f416194	
Раздел 2. Первоначальные сведения о строении вещества				
2.1	Строение вещества	1	Библиотека ЦОК https://m.edsoo.ru/7f416194	
2.2	Движение и взаимодействие частиц вещества	2	Библиотека ЦОК https://m.edsoo.ru/7f416194	
2.3	Агрегатные состояния вещества	2	Библиотека ЦОК https://m.edsoo.ru/7f416194	
Раздел 3. Движение и взаимодействие тел				
3.1	Механическое движение	3	Библиотека ЦОК https://m.edsoo.ru/7f416194	
3.2	Инерция, масса, плотность	4	Библиотека ЦОК https://m.edsoo.ru/7f416194	
3.3	Сила. Виды сил	14	Библиотека ЦОК https://m.edsoo.ru/7f416194	

Раздел 4. Давление твёрдых тел, жидкостей и газов				индивидуальных и групповых исследовательских проектов, - инициирование и поддержка исследовательской деятельности школьников в рамках реализации ими индивидуальных и групповых исследовательских проектов, - активизации познавательной деятельности через использование занимательных элементов, историй из жизни великих ученых, писателей, ИКТ (мультимедийные презентации) - возможность приобрести навык публичного выступления перед аудиторией;
4.1	Давление. Передача давления твёрдыми телами, жидкостями и газами	3	Библиотека ЦОК https://m.edsoo.ru/7f416194	
4.2	Давление жидкости	5	Библиотека ЦОК https://m.edsoo.ru/7f416194	
4.3	Атмосферное давление	6	Библиотека ЦОК https://m.edsoo.ru/7f416194	
4.4	Действие жидкости и газа на погружённое в них тело	7	Библиотека ЦОК https://m.edsoo.ru/7f416194	
Раздел 5. Работа и мощность. Энергия				
5.1	Работа и мощность	3	Библиотека ЦОК https://m.edsoo.ru/7f416194	
5.2	Простые механизмы	5	Библиотека ЦОК https://m.edsoo.ru/7f416194	
5.3	Механическая энергия	4	Библиотека ЦОК https://m.edsoo.ru/7f416194	

				- применение на уроке интерактивных форм работы учащихся: интеллектуальных игр, стимулирующих познавательную мотивацию школьников; дискуссий, групповой работы или работы в парах, которые учат школьников командной работе и взаимодействию с другими детьми
	Резервное время	3		
	ОБЩЕЕ КОЛИЧЕСТВО ЧАСОВ ПО ПРОГРАММЕ	68		

8 КЛАСС

№ п/п	Наименование разделов и тем программы	Количество часов	Использование ЭОР/ЦОР	Деятельность учителя с учетом рабочей программы воспитания
Раздел 1. Тепловые явления				активизации познавательной деятельности через использование занимательных элементов, историй из жизни великих ученых, писателей, ИКТ (мультимедийные презентации)
1.1	Строение и свойства вещества	7	Библиотека ЦОК https://m.edsoo.ru/7f4181ce	
1.2	Тепловые процессы	21	Библиотека ЦОК https://m.edsoo.ru/7f4181ce	- возможность приобрести навык публичного выступления перед аудиторией; - применение на уроке интерактивных форм работы учащихся: интеллектуальных игр, стимулирующих познавательную мотивацию школьников; дискуссий, групповой работы или работы в парах, которые учат
Раздел 2. Электрические и магнитные явления				
2.1	Электрические заряды. Заряженные тела и их взаимодействие	7	Библиотека ЦОК https://m.edsoo.ru/7f4181ce	
2.2	Постоянный электрический ток	20	Библиотека ЦОК https://m.edsoo.ru/7f4181ce	
2.3	Магнитные явления	6	Библиотека ЦОК https://m.edsoo.ru/7f4181ce	
2.4	Электромагнитная индукция	4	Библиотека ЦОК https://m.edsoo.ru/7f4181ce	
Резервное время		3		

			школьников командной работе и взаимодействию с другими детьми
ОБЩЕЕ КОЛИЧЕСТВО ЧАСОВ ПО ПРОГРАММЕ	68		

9 КЛАСС

№ п/п	Наименование разделов и тем программы	Количество часов	Использование ЭОР/ЦОР	Деятельность учителя с учетом рабочей программы воспитания
Раздел 1. Механические явления				- побуждение школьников соблюдать на уроке общепринятые нормы поведения, принципы учебной дисциплины и самоорганизации через знакомство и в последующем соблюдение «Правил внутреннего распорядка обучающихся» - привлечение внимания школьников к ценностному аспекту изучаемых на уроках явлений, - использование воспитательных возможностей содержания учебного предмета через решения
1.1	Механическое движение и способы его описания	10	Библиотека ЦОК https://m.edsoo.ru/7f41a4a6	
1.2	Взаимодействие тел	20	Библиотека ЦОК https://m.edsoo.ru/7f41a4a6	
1.3	Законы сохранения	10	Библиотека ЦОК https://m.edsoo.ru/7f41a4a6	
Раздел 2. Механические колебания и волны				
2.1	Механические колебания	7	Библиотека ЦОК https://m.edsoo.ru/7f41a4a6	
2.2	Механические волны. Звук	8	Библиотека ЦОК https://m.edsoo.ru/7f41a4a6	
Раздел 3. Электромагнитное поле и электромагнитные волны				
3.1	Электромагнитное поле и электромагнитные волны	6	Библиотека ЦОК https://m.edsoo.ru/7f41a4a6	
Раздел 4. Световые явления				
4.1	Законы распространения света	6	Библиотека ЦОК https://m.edsoo.ru/7f41a4a6	
4.2	Линзы и оптические приборы	6	Библиотека ЦОК https://m.edsoo.ru/7f41a4a6	
4.3	Разложение белого света в спектр	3	Библиотека ЦОК https://m.edsoo.ru/7f41a4a6	

Раздел 5. Квантовые явления				задач, проблемных ситуаций для обсуждения в классе; - инициирование и поддержка исследовательской деятельности школьников в рамках реализации ими индивидуальных и групповых исследовательских проектов, - применение на уроке интерактивных форм работы учащихся: интеллектуальных игр, стимулирующих познавательную мотивацию школьников; дискуссий, групповой работы или работы в парах, которые учат школьников командной работе и взаимодействию с другими детьми
5.1	Испускание и поглощение света атомом	4	Библиотека ЦОК https://m.edsoo.ru/7f41a4a6	
5.2	Строение атомного ядра	6	Библиотека ЦОК https://m.edsoo.ru/7f41a4a6	
5.3	Ядерные реакции	7	Библиотека ЦОК https://m.edsoo.ru/7f41a4a6	
Раздел 6. Повторительно-обобщающий модуль				
6.1	Повторение и обобщение содержания курса физики за 7-9 класс	9	Библиотека ЦОК https://m.edsoo.ru/7f41a4a6	
ОБЩЕЕ КОЛИЧЕСТВО ЧАСОВ ПО ПРОГРАММЕ		102		

ПОУРОЧНОЕ ПЛАНИРОВАНИЕ

7 КЛАСС

№ п/п	Тема урока	Количество часов	Дата план	Дата факт	Корректировка
1	Физика — наука о природе. Явления природы	1			
2	Физические явления	1			
3	Физические величины и их измерение	1			
4	Урок-исследование "Измерение температуры при помощи жидкостного термометра и датчика температуры"	1			
5	Методы научного познания. Описание физических явлений с помощью моделей	1			
6	Урок-исследование "Проверка гипотезы: дальность полёта шарика, пущенного горизонтально, тем больше, чем больше высота пуска"	1			
7	Строение вещества. опыты, доказывающие дискретное строение вещества	1			
8	Движение частиц вещества	1			
9	Урок-исследование «Опыты по наблюдению теплового расширения газов»	1			
10	Агрегатные состояния вещества	1			
11	Особенности агрегатных состояний	1			

	воды. Обобщение по разделу «Первоначальные сведения о строении вещества»				
12	Механическое движение. Равномерное и неравномерное движение	1			
13	Скорость. Единицы скорости	1			
14	Расчет пути и времени движения	1			
15	Инерция. Масса — мера инертности тел	1			
16	Плотность вещества. Расчет массы и объема тела по его плотности	1			
17	Лабораторная работа «Определение плотности твёрдого тела»	1			
18	Решение задач по теме "Плотность вещества"	1			
19	Сила как характеристика взаимодействия тел. Сила упругости. Закон Гука	1			
20	Лабораторная работа «Изучение зависимости растяжения (деформации) пружины от приложенной силы»	1			
21	Явление тяготения. Сила тяжести	1			
22	Связь между силой тяжести и массой тела. Вес тела. Решение задач по теме "Сила тяжести"	1			
23	Сила тяжести на других планетах. Физические характеристики планет	1			
24	Измерение сил. Динамометр	1			

25	Вес тела. Невесомость	1			
26	Сложение двух сил, направленных по одной прямой. Равнодействующая сил	1			
27	Решение задач по теме "Равнодействующая сил"	1			
28	Сила трения и её виды. Трение в природе и технике	1			
29	Лабораторная работа «Изучение зависимости силы трения скольжения от силы давления и характера соприкасающихся поверхностей»	1			
30	Решение задач на определение равнодействующей силы	1			
31	Решение задач по темам: «Вес тела», «Графическое изображение сил», «Силы», «Равнодействующая сил»	1			
32	Контрольная работа по темам: «Механическое движение», «Масса, плотность», «Вес тела», «Графическое изображение сил», «Силы»	1			
33	Давление. Способы уменьшения и увеличения давления	1			
34	Давление газа. Зависимость давления газа от объёма, температуры	1			
35	Передача давления твёрдыми телами, жидкостями и газами. Закон Паскаля	1			
36	Давление в жидкости и газе, вызванное	1			

	действием силы тяжести				
37	Решение задач по теме «Давление в жидкости и газе. Закон Паскаля»	1			
38	Сообщающиеся сосуды	1			
39	Гидравлический пресс	1			
40	Манометры. Поршневой жидкостный насос	1			
41	Атмосфера Земли и причины её существования	1			
42	Вес воздуха. Атмосферное давление	1			
43	Измерение атмосферного давления. Опыт Торричелли	1			
44	Зависимость атмосферного давления от высоты над уровнем моря	1			
45	Барометр-анероид. Атмосферное давление на различных высотах	1			
46	Решение задач по теме " Атмосферное давление"	1			
47	Действие жидкости и газа на погруженное в них тело. Архимедова сила	1			
48	Лабораторная работа «Определение выталкивающей силы, действующей на тело, погруженное в жидкость»	1			
49	Лабораторная работа по теме «Исследование зависимости веса тела в воде от объёма погруженной в жидкость части тела»	1			

50	Плавание тел	1			
51	Лабораторная работа "Конструирование ареометра или конструирование лодки и определение её грузоподъёмности"	1			
52	Решение задач по темам: «Плавание судов. Воздухоплавание», «Давление твёрдых тел, жидкостей и газов»	1			
53	Контрольная работа по теме «Давление твёрдых тел, жидкостей и газов»	1			
54	Механическая работа	1			
55	Мощность. Единицы мощности	1			
56	Урок-исследование "Расчёт мощности, развиваемой при подъёме по лестнице"	1			
57	Простые механизмы. Рычаг. Равновесие сил на рычаге	1			
58	Рычаги в технике, быту и природе. Лабораторная работа «Исследование условий равновесия рычага»	1			
59	Решение задач по теме «Условия равновесия рычага»	1			
60	Коэффициент полезного действия механизма. Лабораторная работа «Измерение КПД наклонной плоскости»	1			
61	Решение задач по теме "Работа, мощность, КПД"	1			

62	Механическая энергия. Кинетическая и потенциальная энергия	1			
63	Закон сохранения механической энергии	1			
64	Урок-эксперимент по теме "Экспериментальное определение изменения кинетической и потенциальной энергии при скатывании тела по наклонной плоскости"	1			
65	Контрольная работа по теме «Работа и мощность. Энергия»	1			
66	Резервный урок. Работа с текстами по теме "Механическое движение"	1			
67	Резервный урок. Работа с текстами по теме "Давление твёрдых тел, жидкостей и газов"	1			
68	Резервный урок. Работа с текстами по теме "Работа. Мощность. Энергия"	1			
ОБЩЕЕ КОЛИЧЕСТВО ЧАСОВ ПО ПРОГРАММЕ		68			

Контрольные работы

8 КЛАСС

№ п/п	Тема урока	Количество часов	Дата план	Дата факт	Корректировка
1	Основные положения молекулярно-кинетической теории и их опытные подтверждения	1			
2	Масса и размер атомов и молекул	1			
3	Модели твёрдого, жидкого и газообразного состояний вещества	1			
4	Объяснение свойств твёрдого, жидкого и газообразного состояний вещества на основе положений молекулярно-кинетической теории	1			
5	Кристаллические и аморфные тела	1			
6	Смачивание и капиллярность. Поверхностное натяжение	1			
7	Тепловое расширение и сжатие	1			
8	Температура. Связь температуры со скоростью теплового движения частиц	1			
9	Внутренняя энергия. Способы изменения внутренней энергии	1			
10	Виды теплопередачи	1			
11	Урок-конференция "Практическое использование тепловых свойств веществ и материалов в целях энергосбережения"	1			

12	Количество теплоты. Удельная теплоемкость	1			
13	Уравнение теплового баланса. Теплообмен и тепловое равновесие	1			
14	Лабораторная работа "Исследование явления теплообмена при смешивании холодной и горячей воды"	1			
15	Расчет количества теплоты, необходимого для нагревания тела и выделяемого им при охлаждении	1			
16	Лабораторная работа "Определение удельной теплоемкости вещества"	1			
17	Энергия топлива. Удельная теплота сгорания	1			
18	Плавление и отвердевание кристаллических тел. Удельная теплота плавления	1			
19	Лабораторная работа "Определение удельной теплоты плавления льда"	1			
20	Парообразование и конденсация. Испарение	1			
21	Кипение. Удельная теплота парообразования и конденсации. Зависимость температуры кипения от атмосферного давления	1			
22	Влажность воздуха. Лабораторная работа "Определение относительной влажности воздуха"	1			

23	Решение задач на определение влажности воздуха	1			
24	Принципы работы тепловых двигателей. Паровая турбина. Двигатель внутреннего сгорания	1			
25	КПД теплового двигателя. Тепловые двигатели и защита окружающей среды	1			
26	Закон сохранения и превращения энергии в тепловых процессах	1			
27	Подготовка к контрольной работе по теме "Тепловые явления. Изменение агрегатных состояний вещества"	1			
28	Контрольная работа по теме "Тепловые явления. Изменение агрегатных состояний вещества"	1 1			
29	Электризация тел. Два рода электрических зарядов	1			
30	Урок-исследование "Электризация тел индукцией и при соприкосновении"	1			
31	Взаимодействие заряженных тел. Закон Кулона	1			
32	Электрическое поле. Напряженность электрического поля. Принцип суперпозиции электрических полей	1			
33	Носители электрических зарядов. Элементарный заряд. Строение атома	1			
34	Проводники и диэлектрики. Закон сохранения электрического заряда	1			

35	Решение задач на применение свойств электрических зарядов	1			
36	Электрический ток, условия его существования. Источники электрического тока	1			
37	Действия электрического тока	1			
38	Урок-исследование "Действие электрического поля на проводники и диэлектрики"	1			
39	Электрический ток в металлах, жидкостях и газах	1			
40	Электрическая цепь и её составные части	1			
41	Сила тока. Лабораторная работа "Измерение и регулирование силы тока"	1			
42	Электрическое напряжение. Вольтметр. Лабораторная работа "Измерение и регулирование напряжения"	1			
43	Сопротивление проводника. Удельное сопротивление вещества	1			
44	Лабораторная работа "Зависимость электрического сопротивления проводника от его длины, площади поперечного сечения и материала"	1			
45	Зависимость силы тока от напряжения. Закон Ома для участка цепи	1			
46	Лабораторная работа "Исследование зависимости силы тока, идущего через	1			

	резистор, от сопротивления резистора и напряжения на резисторе"				
47	Последовательное и параллельное соединения проводников	1			
48	Лабораторная работа "Проверка правила сложения напряжений при последовательном соединении двух резисторов"	1			
49	Лабораторная работа "Проверка правила для силы тока при параллельном соединении резисторов"	1			
50	Решение задач на применение закона Ома для различного соединения проводников	1			
51	Работа и мощность электрического тока. Закон Джоуля-Ленца	1			
52	Лабораторная работа "Определение работы и мощности электрического тока"	1			
53	Электрические цепи и потребители электрической энергии в быту. Короткое замыкание	1			
54	Подготовка к контрольной работе по теме "Электрические заряды. Заряженные тела и их взаимодействия. Постоянный электрический ток"	1			
55	Контрольная работа по теме "Электрические заряды. Заряженные	1			

	тела и их взаимодействия. Постоянный электрический ток"				
56	Постоянные магниты, их взаимодействие	1			
57	Урок-исследование "Изучение полей постоянных магнитов"	1			
58	Магнитное поле. Магнитное поле Земли и его значение для жизни на Земле	1			
59	Опыт Эрстеда. Магнитное поле электрического тока Магнитное поле катушки с током	1			
60	Применение электромагнитов в технике. Лабораторная работа "Изучение действия магнитного поля на проводник с током"	1			
61	Электродвигатель постоянного тока. Использование электродвигателей в технических устройствах и на транспорте. Лабораторная работа "Конструирование и изучение работы электродвигателя"	1			
62	Опыты Фарадея. Закон электромагнитной индукции. Правило Ленца	1			
63	Электрогенератор. Способы получения электрической энергии. Электростанции на возобновляемых источниках энергии	1			
64	Подготовка к контрольной работе по	1			

	теме "Электрические и магнитные явления"				
65	Контрольная работа по теме "Электрические и магнитные явления"	1			
66	Резервный урок. Работа с текстами по теме "Тепловые явления"	1			
67	Резервный урок. Работа с текстами по теме "Постоянный электрический ток"	1			
68	Резервный урок. Работа с текстами по теме "Магнитные явления"	1			
ОБЩЕЕ КОЛИЧЕСТВО ЧАСОВ ПО ПРОГРАММЕ		68			

9 КЛАСС

№ п/п	Тема урока	Количество часов	Дата план	Дата факт	Корректировка
1	Механическое движение. Материальная точка	1			
2	Система отсчета. Относительность механического движения	1			
3	Равномерное прямолинейное движение	1			
4	Неравномерное прямолинейное движение. Средняя и мгновенная скорость	1			
5	Прямолинейное равноускоренное движение. Ускорение	1			
6	Скорость прямолинейного равноускоренного движения. График скорости	1			
7	Лабораторная работа "Определение ускорения тела при равноускоренном движении по наклонной плоскости"	1			
8	Свободное падение тел. опыты Галилея	1			
9	Равномерное движение по окружности. Период и частота обращения. Линейная и угловая скорости	1			
10	Центростремительное ускорение	1			
11	Первый закон Ньютона. Вектор силы	1			
12	Второй закон Ньютона. Равнодействующая сила	1			

13	Третий закон Ньютона. Суперпозиция сил	1			
14	Решение задач на применение законов Ньютона	1			
15	Сила упругости. Закон Гука	1			
16	Решение задач по теме «Сила упругости»	1			
17	Лабораторная работа «Определение жесткости пружины»	1			
18	Сила трения	1			
19	Решение задач по теме «Сила трения»	1			
20	Лабораторная работа "Определение коэффициента трения скольжения"	1			
21	Решение задач по теме "Законы Ньютона. Сила упругости. Сила трения"	1			
22	Сила тяжести и закон всемирного тяготения. Ускорение свободного падения	1			
23	Урок-конференция "Движение тел вокруг гравитационного центра (Солнечная система). Галактики"	1			
24	Решение задач по теме "Сила тяжести и закон всемирного тяготения"	1			
25	Первая космическая скорость. Невесомость и перегрузки	1			
26	Равновесие материальной точки. Абсолютно твёрдое тело. Равновесие твёрдого тела с закреплённой осью вращения	1			

27	Момент силы. Центр тяжести	1			
28	Решение задач по теме "Момент силы. Центр тяжести"	1			
29	Подготовка к контрольной работе по теме "Механическое движение. Взаимодействие тел"	1			
30	Контрольная работа по теме "Механическое движение. Взаимодействие тел"	1			
31	Импульс тела. Импульс силы. Закон сохранения импульса. Упругое и неупругое взаимодействие	1			
32	Решение задач по теме "Закон сохранения импульса"	1			
33	Урок-конференция "Реактивное движение в природе и технике"	1			
34	Механическая работа и мощность	1			
35	Работа силы тяжести, силы упругости и силы трения	1			
36	Лабораторная работа «Определение работы силы трения при равномерном движении тела по горизонтальной поверхности»	1			
37	Связь энергии и работы. Потенциальная энергия	1			
38	Кинетическая энергия. Теорема о кинетической энергии	1			
39	Закон сохранения энергии в механике	1			

40	Лабораторная работа «Изучение закона сохранения энергии»	1			
41	Колебательное движение и его характеристики	1			
42	Затухающие колебания. Вынужденные колебания. Резонанс	1			
43	Математический и пружинный маятники	1			
44	Урок-исследование «Зависимость периода колебаний от жесткости пружины и массы груза»	1			
45	Превращение энергии при механических колебаниях	1			
46	Лабораторная работа «Определение частоты и периода колебаний пружинного маятника»	1			
47	Лабораторная работа «Проверка независимости периода колебаний груза, подвешенного к нити, от массы груза»	1			
48	Механические волны. Свойства механических волн. Продольные и поперечные волны	1			
49	Урок-конференция "Механические волны в твёрдом теле. Сейсмические волны"	1			
50	Звук. Распространение и отражение звука	1			
51	Урок-исследование "Наблюдение зависимости высоты звука от частоты"	1			
52	Громкость звука и высота тона. Акустический резонанс	1			

53	Урок-конференция "Ультразвук и инфразвук в природе и технике"	1			
54	Подготовка к контрольной работе по теме "Законы сохранения. Механические колебания и волны"	1			
55	Контрольная работа по теме "Законы сохранения. Механические колебания и волны"	1			
56	Электромагнитное поле. Электромагнитные волны	1			
57	Свойства электромагнитных волн	1			
58	Урок-конференция "Шкала электромагнитных волн. Использование электромагнитных волн для сотовой связи"	1			
59	Урок-исследование "Изучение свойств электромагнитных волн с помощью мобильного телефона"	1			
60	Решение задач на определение частоты и длины электромагнитной волны	1			
61	Электромагнитная природа света. Скорость света. Волновые свойства света	1			
62	Источники света. Прямолинейное распространение света. Затмения Солнца и Луны	1			
63	Закон отражения света. Зеркала. Решение задач на применение закона отражения света	1			

64	Преломление света. Закон преломления света	1			
65	Полное внутреннее отражение света. Использование полного внутреннего отражения в оптических световодах	1			
66	Лабораторная работа "Исследование зависимости угла преломления светового луча от угла падения на границе "воздух-стекло""	1			
67	Урок-конференция "Использование полного внутреннего отражения: световоды, оптоволоконная связь"	1			
68	Линзы. Оптическая сила линзы	1			
69	Построение изображений в линзах	1			
70	Лабораторная работа "Определение фокусного расстояния и оптической силы собирающей линзы"	1			
71	Урок-конференция "Оптические линзовые приборы"	1			
72	Глаз как оптическая система. Зрение	1			
73	Урок-конференция "Дефекты зрения. Как сохранить зрение"	1			
74	Разложение белого света в спектр. опыты Ньютона. Сложение спектральных цветов. Дисперсия света	1			
75	Лабораторная работа "Опыты по разложению белого света в спектр и восприятию цвета предметов при их	1			

	наблюдении через цветные фильтры"				
76	Урок-практикум "Волновые свойства света: дисперсия, интерференция и дифракция"	1			
77	Опыты Резерфорда и планетарная модель атома	1			
78	Постулаты Бора. Модель атома Бора	1			
79	Испускание и поглощение света атомом. Кванты. Линейчатые спектры	1			
80	Урок-практикум "Наблюдение спектров испускания"	1			
81	Радиоактивность и её виды	1			
82	Строение атомного ядра. Нуклонная модель	1			
83	Радиоактивные превращения. Изотопы	1			
84	Решение задач по теме: "Радиоактивные превращения"	1			
85	Период полураспада	1			
86	Урок-конференция "Радиоактивные излучения в природе, медицине, технике"	1			
87	Ядерные реакции. Законы сохранения зарядового и массового чисел	1			
88	Энергия связи атомных ядер. Связь массы и энергии	1			
89	Решение задач по теме "Ядерные реакции"	1			
90	Реакции синтеза и деления ядер.	1			

	Источники энергии Солнца и звёзд				
91	Урок-конференция "Ядерная энергетика. Действия радиоактивных излучений на живые организмы"	1			
92	Подготовка к контрольной работе по теме "Электромагнитное поле. Электромагнитные волны. Квантовые явления"	1			
93	Контрольная работа по теме "Электромагнитное поле. Электромагнитные волны. Квантовые явления"	1			
94	Повторение, обобщение. Лабораторные работы по курсу "Взаимодействие тел"	1			
95	Повторение, обобщение. Решение расчетных и качественных задач по теме "Тепловые процессы"	1			
96	Повторение, обобщение. Решение расчетных и качественных задач по теме "КПД тепловых двигателей"	1			
97	Повторение, обобщение. Решение расчетных и качественных задач по теме "КПД электроустановок"	1			
98	Повторение, обобщение. Лабораторные работы по курсу "Световые явления"	1			
99	Повторение, обобщение. Работа с текстами по теме "Законы сохранения в механике"	1			

100	Повторение, обобщение. Работа с текстами по теме "Колебания и волны"	1			
101	Повторение, обобщение. Работа с текстами по теме "Световые явления"	1			
102	Повторение, обобщение. Работа с текстами по теме "Квантовая и ядерная физика"	1			
ОБЩЕЕ КОЛИЧЕСТВО ЧАСОВ ПО ПРОГРАММЕ		102			

Оценочные материалы для 7 класс

Контрольная работа № 1 по теме: «Первоначальные сведения о строении вещества»

Вариант 1 Уровень А

- В дошедших до нас письменных свидетельствах идеи о том, что вещество состоит из атомов, разделенных пустым пространством, высказаны
1) Демокритом 2) Ньютоном 3) Менделеевым 4) Эйнштейном
- Учительница вошла в класс. Ученик, сидящий на последней на последней парте, почувствовал запах ее духов через 10 с. Скорость распространения запаха духов в комнате определяется, в основном, скоростью
1) испарения 2) диффузии 3) броуновского движения 4) конвекционного переноса воздуха
- Какое из утверждений верно?
А. Соприкасающиеся полированные стекла сложно разъединить
Б. Полированные стальные плитки могут слипаться
1) Только А 2) Только Б 3) А и Б 4) Ни А, ни Б
- Какое из приведенных ниже высказываний относится к жидкому состоянию вещества?
1) Имеет собственную форму и объем
2) Имеет собственный объем, но не имеет собственной формы
3) Не имеет ни собственного объема, ни собственной формы
4) Имеет собственную форму, но не имеет собственного объема
- Расстояние между соседними частицами вещества в среднем во много раз превышает размеры самих частиц. Это утверждение соответствует
1) только модели строения газов
2) только модели строения жидкостей
3) модели строения газов и жидкостей
4) модели строения газов, жидкостей и твердых тел
- Какое из утверждений верно? При переходе вещества из газообразного состояния в жидкое
А. Уменьшается среднее расстояние между его молекулами
Б. Молекулы начинают сильнее притягиваться друг к другу
В. Появляется некоторая упорядоченность в расположении его молекул

- 1) Только А 2) Только Б 3) Только В 4) А, Б и В

Уровень В

7. Установите соответствие между физическими понятиями и их примерами.

К каждой позиции первого столбца подберите соответствующую позицию второго и запишите в таблицу выбранные цифры под соответствующими буквами.

ФИЗИЧЕСКИЕ ПОНЯТИЯ

- А) Физическое явление
Б) Физическое тело
В) Вещество


ПРИМЕРЫ

- 1) Яблоко
2) Медь
3) Молния
4) Скорость
5) Секунда

А	Б	В

8. Определите предел измерений мензурки, цену деления и объем жидкости, налитой в мензурку.

Уровень С



Контрольная работа № 1 по теме: «Первоначальные сведения о строении вещества»

Вариант 2

Уровень А

1. Невозможно бесконечно делить вещество на все более мелкие части. Каким из приведенных ниже положений можно объяснить этот факт?

- 1) Все тела состоят из частиц конечного размера
 - 2) Частицы вещества находятся в непрерывном хаотическом движении
 - 3) Давление газа обусловлено ударами молекул
 - 4) Между частицами вещества существуют силы притяжения
2. Если положить огурец в соленую воду, то через некоторое время он станет соленым. Выберите явление, которое обязательно придется использовать при объяснении этого процесса.
 - 1) диффузия
 - 2) конвекция
 - 3) химическая реакция
 - 4) теплопроводность
 3. Какое из утверждений верно?
 - А. На расстояниях, сравнимых с размерами самих молекул, заметнее проявляется отталкивание
 - Б. При уменьшении промежутков между молекулами заметнее проявляется притяжение
 - 1) Только А
 - 2) Только Б
 - 3) А и Б
 - 4) Ни А, ни Б
 4. Какое из приведенных ниже высказываний относится к газообразному состоянию вещества?
 - 1) Имеет собственную форму и объем
 - 2) Имеет собственный объем, но не имеет собственной формы
 - 3) Не имеет ни собственного объема, ни собственной формы
 - 4) Имеет собственную форму, но не имеет собственного объема
 5. В каком состоянии находится вещество, если его молекулы достаточно близко расположены друг около друга, участвуют в скачкообразных движениях, а при сжатии возникают силы отталкивания, которые мешают изменять объем?
 - 1) В газообразном
 - 2) В твердом
 - 3) В жидком
 - 4) В газообразном или в жидком
 6. Какое из утверждений верно? При переходе вещества из жидкого состояния в твердое
 - А. Уменьшается среднее расстояние между его молекулами
 - Б. Молекулы начинают сильнее притягиваться друг к другу
 - В. Образуется кристаллическая решетка
 - 1) Только А
 - 2) Только Б
 - 3) Только В
 - 4) А, Б и В

Уровень В

7. Установите соответствие между физическими понятиями и их примерами.
 К каждой позиции первого столбца подберите соответствующую позицию второго и запишите в таблицу выбранные цифры под соответствующими буквами.

ФИЗИЧЕСКИЕ ПОНЯТИЯ

- А) Физическая величина
- Б) Единица измерения
- В) Измерительный прибор

ПРИМЕРЫ


- 1) Минута
- 2) Лед
- 3) Время
- 4) Испарение

5) Весы

А	Б	В

8. Определите предел измерений мензурки, цену деления и объем жидкости, налитой в мензурку.

Уровень С



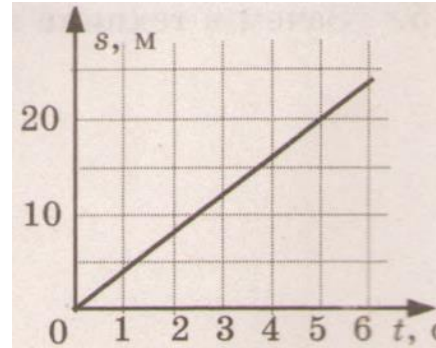
Контрольная работа № 2 по теме: «Взаимодействие тел»

Вариант 1

Уровень А

- Изменение с течением времени положения тела относительно других тел называется
 - траектория
 - прямая линия
 - пройденный путь
 - механическое движение
- При равномерном движении за 2 минуты тело проходит путь, равный 240 см. Скорость тела равна
 - 0,02 м/с
 - 1,2 м/с
 - 2 м/с
 - 4,8 м/с
- Дубовый брусок имеет массу 490 г и плотность 700 кг/м³. Определите его объем.
 - 0,7 м³
 - 1,43 м³
 - 0,0007 м³
 - 343 м³
- На мопед действует сила тяжести, равная 390 Н. Определите массу мопеда.
 - 390 кг
 - 0,39 кг
 - 39 кг
 - 3900 кг
- По графику пути равномерного движения определите путь, пройденный телом за 5 с движения.
 - 4 м
 - 20 м
 - 10 м
 - 30

М



6. Человек, масса которого 70 кг, держит на плечах ящик массой 20 кг.
1) 50 Н 2) 90 Н 3) 500 Н 4) 900 Н

С какой силой человек давит на

Уровень В

7. Установите соответствие между физическими величинами и их измерительными приборами.

К каждой позиции первого столбца подберите соответствующую позицию второго и запишите в таблицу выбранные цифры под соответствующими буквами.

ФИЗИЧЕСКИЕ ВЕЛИЧИНЫ

ИЗМЕРИТЕЛЬНЫЕ ПРИБОРЫ

А) Вес

1) Мензурка

Б) Объем

2) Весы

В) Скорость

3) Динамометр

4) Спидометр

5) Секундомер

А	Б	В

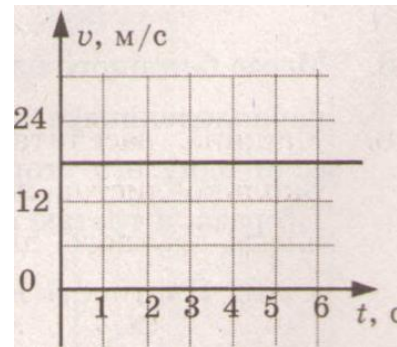
Уровень С

8. Масса бетонного блока, имеющего форму прямоугольного параллелепипеда, равна 5 кг. Какой станет масса блока, если одну его сторону увеличить в 2 раза, другую – в 1,5 раза, а третью оставить без изменения?

Вариант 2

Уровень А

- Какая из физических величин является векторной?
1) время 2) объем 3) пройденный путь 4) скорость
- За какое время велосипедист проедет 360 м, двигаясь со скоростью 18 км/ч?
1) 20 с 2) 36 с 3) 72 с 4) 1800 с
- Растительное масло объемом 2 л имеет массу 1840 г. Определите плотность масла.
1) 3680 кг/м³ 2) 920 кг/м³ 3) 0,92 кг/м³ 4) 3,68 кг/м³
- Легковой автомобиль имеет массу 1 т. Определите его вес.
1) 1000 кг 2) 1000 Н 3) 100 Н 4) 10000 Н
- По графику скорости прямолинейного движения определите скорость тела в конце четвертой секунды от начала движения.
1) 12 м/с 2) 18 м/с
3) 24 м/с 4) 30 м/с



- На тело действуют две силы: вверх, равная 10 Н, и вниз, равная 6 Н. Куда направлена и чему равна равнодействующая этих сил?
1) вниз, 4 Н 2) вверх, 16 Н 3) вверх, 4 Н 4) вниз, 16 Н

Уровень В

- Установите соответствие между физическими величинами и формулами, по которым эти величины определяются.

К каждой позиции первого столбца подберите соответствующую позицию второго и запишите в таблицу выбранные цифры под соответствующими буквами.

ФИЗИЧЕСКИЕ ВЕЛИЧИНЫ ФОРМУЛЫ

- | | |
|--------------------|-------------------|
| А) Плотность | 1) m/V |
| Б) Пройденный путь | 2) s/t |
| В) Сила тяжести | 3) $v \cdot t$ |
| | 4) $m \cdot g$ |
| | 5) $\rho \cdot V$ |

А	Б	В

Уровень С

8. Машина рассчитана на перевозку груза массой 3 т. Сколько листов железа можно нагрузить на нее, если длина каждого листа 2 м, ширина 80 см и толщина 2 мм? Плотность железа 7800 кг/м^3 .

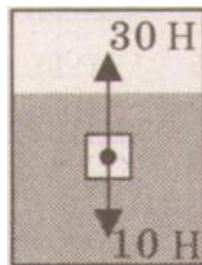
Контрольная работа № 3 по теме: «Давление твердых тел, жидкостей и газов»

Вариант 1

Уровень А

- Книга лежит на столе. Масса книги равна 0,6 кг. Площадь ее соприкосновения со столом равна $0,08 \text{ м}^2$. Определите давление книги на стол.
1) 75 Па 2) 7,5 Па 3) 0,13 Па 4) 0,048 Па
- Давление, создаваемое водой на дне озера, равно 4 МПа. Плотность воды 1000 кг/м^3 . Если не учитывать атмосферное давление, то глубина озера равна
1) 4 м 2) 40 м 3) 400 м 4) 4000 м
- Альпинисты поднимаются к вершине горы. Как изменяется атмосферное давление по мере движения спортсменов?
1) увеличивается 2) уменьшается 3) не изменяется 4) среди ответов нет правильного

4. Площадь малого поршня гидравлической машины 10 см^2 , на него действует сила 1 кН . Какую силу необходимо приложить к большому поршню, чтобы поршни были в равновесии? Площадь большого поршня 500 см^2 .
- 1) 50 Н 2) 20 Н 3) 500 Н 4) 50 кН
5. Аэростат объемом 1000 м^3 заполнен гелием. Плотность гелия $0,18 \text{ кг/м}^3$, плотность воздуха $1,29 \text{ кг/м}^3$. На аэростат действует выталкивающая сила, равная
- 1) $1,29 \text{ кН}$ 2) $1,8 \text{ кН}$ 3) $12,9 \text{ кН}$ 4) 180 кН
6. Как будет вести себя тело, изображенное на рисунке?
- 1) утонет
2) будет плавать внутри жидкости
3) будет плавать на поверхности
4) опустится на дно



Уровень В

7. Установите соответствие между научными открытиями и именами ученых, которым эти открытия принадлежат.

К каждой позиции первого столбца подберите соответствующую позицию второго и запишите в таблицу выбранные цифры под соответствующими буквами.

ФИЗИЧЕСКИЕ ОТКРЫТИЯ ИМЕНА УЧЕНЫХ

- | | |
|---|---------------|
| А) Закон о передаче давления жидкостями и газами | 1) Архимед |
| Б) Впервые измерил атмосферное давление | 2) Броун |
| В) Получил формулу для расчета выталкивающей силы | 3) Торричелли |
| | 4) Ньютон |
| | 5) Паскаль |

А	Б	В


Уровень С

8. Площадь плота, изготовленного из сосновых брусьев квадратного сечения, равна 4 м^2 , толщина 30 см. Какую максимальную массу груза может удержать плот? Плотность сосны 500 кг/м^3 , а воды 1000 кг/м^3 .

Вариант 2

Уровень А

- Трактор массой 6 т имеет площадь обеих гусениц 2 м^2 . Найдите давление трактора на почву.
1) 15 Па 2) 15 кПа 3) 30 Па 4) 30 кПа
- В открытой цистерне, наполненной до уровня 4 м, находится жидкость. Ее давление на дно цистерны равно 28 кПа (без учета атмосферного давления). Плотность этой жидкости равна
1) 1400 кг/м^2 2) 7000 кг/м^2 3) 700 кг/м^2 4) 70 кг/м^2
- Какие приборы служат для измерения атмосферного давления?
А. Ртутный барометр
Б. Барометр-анероид
1) Только А 2) Только Б 3) А и Б 4) Ни А, ни Б
- Определите площадь малого поршня гидравлической машины, если, при действии на большой поршень площадью 40 см^2 силой 4 кН, на малый действует сила 800 Н.
1) 8 см^2 2) 800 см^2 3) 20 см^2 4) $0,08 \text{ см}^2$
- Какая выталкивающая сила действует на гранитный булыжник объемом $0,004 \text{ м}^3$, лежащий на дне озера? Плотность воды 1000 кг/м^3 .
1) 1200 Н 2) 40 Н 3) 98 Н 4) 234 Н
- В воду поместили дубовый шарик. Что будет происходить с шариком? Плотность воды 1000 кг/м^3 , а дуба 700 кг/м^3 .
1) опустится на дно
2) будет плавать внутри жидкости



- 3) будет плавать на поверхности
- 4) среди ответов нет правильного

Уровень В

7. Установите соответствие между физическими величинами и формулами, по которым эти величины определяются.

К каждой позиции первого столбца подберите соответствующую позицию второго и запишите в таблицу выбранные цифры под соответствующими буквами.

ФИЗИЧЕСКИЕ ВЕЛИЧИНЫ ФОРМУЛЫ

- | | |
|----------------------|----------------|
| А) Давление жидкости | 1) $\rho g V$ |
| Б) Архимедова сила | 2) F/S |
| В) Сила давления | 3) mg |
| | 4) ρgh |
| | 5) $p \cdot S$ |

А	Б	В

Уровень С

8. Масса оболочки воздушного шара составляет 200 кг. При надувании его гелием шар принимает объем 1000 м^3 , при этом плотность гелия в шаре $0,18 \text{ кг/м}^3$. Плотность воздуха $1,29 \text{ кг/м}^3$. Какую максимальную массу груза может поднять этот шар?

Контрольная работа № 4 по теме: «Работа и мощность. Энергия»

Вариант 1

Уровень А

1. Из колодца глубиной 5 м подняли ведро массой 8 кг. Совершенная при этом работа равна
- 1) 1,6 Дж 2) 16 Дж 3) 40 Дж 4) 400 Дж

2. Под действием силы тяги 1000 Н автомобиль движется с постоянной скоростью 72 км/ч. Мощность двигателя равна
 1) 10 кВт 2) 20 кВт 3) 40 кВт 4) 72 кВт
3. Выберите, какие приспособления относятся к простым механизмам.
 А. Ворот
 Б. Наклонная плоскость
 1) Только А 2) Только Б 3) А и Б 4) Ни А, ни Б
4. Рычаг находится в равновесии под действием двух сил. Первая сила 4 Н имеет плечо 15 см. Определите, чему равна вторая сила, если ее плечо 10 см.
 1) 4 Н 2) 0,16 Н 3) 6 Н 4) 2,7 Н
5. Птичка колибри массой 2 г при полете достигает скорости 180 км/ч. Определите энергию движения этой птички.
 1) 0,25 Дж 2) 32,4 Дж 3) 2500 Дж 4) 2,5 Дж
6. Как изменится потенциальная энергия груза массой 200 кг, поднимаемого с платформы на высоту 5 м относительно поверхности Земли? Высота платформы 1 м.
 1) Увеличится на 800 Дж 2) Уменьшится на 800 Дж 3) Увеличится на 8000 Дж 4) Уменьшится на 12000 Дж

Уровень В

7. Установите соответствие между физическими величинами и их единицами измерения в СИ.
 К каждой позиции первого столбца подберите соответствующую позицию второго и запишите в таблицу выбранные цифры под соответствующими буквами.

ФИЗИЧЕСКАЯ ВЕЛИЧИНА	ЕДИНИЦЫ ИЗМЕРЕНИЯ
А) Энергия	1) Килограмм
Б) Плечо силы	2) Метр
В) Мощность	3) Ватт
	4) Ньютон
	5) Джоуль

А	Б	В

Уровень С

8. Груз, масса которого 1,2 кг, ученик равномерно переместил по наклонной плоскости длиной 0,8 м на высоту 0,2 м. При этом перемещении сила, направленная параллельно наклонной плоскости, была равна 5 Н. Какой результат должен получить ученик при вычислении КПД установки?

Вариант 2

Уровень А

1. Резец станка при обработке детали преодолевает силу сопротивления 500 Н, перемещаясь равномерно на 18 см. Совершаемая при этом работа равна
1) 40 Дж 2) 60 Дж 3) 90 Дж 4) 160 Дж
2. Машина равномерно поднимает тело массой 10 кг на высоту 20 м за 40 с. Чему равна ее мощность?
1) 50 кВт 2) 5 кВт 3) 500 кВт 4) 0,5 кВт
3. Какое из утверждений верно?
А. Простые механизмы дают выигрыш в силе
Б. Простые механизмы дают выигрыш в работе
1) Только А 2) Только Б 3) А и Б 4) Ни А, ни Б
4. На рычаг действуют две силы, плечи которых равны 0,1 м и 0,3 м. Сила, действующая на короткое плечо, равна 3 Н. Чему должна быть равна сила, действующая на длинное плечо, чтобы рычаг был в равновесии?
1) 1 Н 2) 6 Н 3) 9 Н 4) 12 Н
5. Как следует изменить массу тела, чтобы его кинетическая энергия увеличилась в 9 раз?
1) Увеличить в 3 раза 2) Увеличить в 9 раз 3) Уменьшить в 3 раза 4) Уменьшить в 9 раз
6. Спортсмен поднял штангу массой 75 кг на высоту 2 м. Какой потенциальной энергией обладает штанга?
1) 37,5 Дж 2) 150 Дж 3) 300 Дж 4) 1500 Дж

Уровень В

7. Установите соответствие между физическими величинами и формулами, по которым эти величины определяются.

К каждой позиции первого столбца подберите соответствующую позицию второго и запишите в таблицу выбранные цифры под соответствующими буквами.

ФИЗИЧЕСКИЕ ВЕЛИЧИНЫ	ФОРМУЛЫ
А) Механическая работа	1) mgh
Б) Момент силы	2) $F \cdot s$
В) Кинетическая энергия	3) mg
	4) $\frac{mv^2}{2}$
	5) $F \cdot l$

А	Б	В

Уровень С

8. Вычислите КПД рычага, с помощью которого груз массой 145 кг равномерно подняли на высоту 6 см. При этом к длинному плечу рычага была приложена сила 500 Н, а точка приложения этой силы опустилась на 0,3 м.

Итоговая контрольная работа

Вариант 1

1. Почему аромат цветов чувствуется на расстоянии?
2. Найдите силу тяжести, действующую на сокола, массой 500 г. Изобразите силу тяжести на чертеже в выбранном масштабе.
3. Скорость поезда 72 км/ч. Какой путь пройдет поезд за 15 минут? Постройте график движения.

4. Найдите архимедову силу, действующую в воде на брусок размером 2x5x10 см, при его погружении наполовину в воду.
5. Найдите работу насоса по подъему 200 л воды с глубины 10 м. Плотность воды 1000 кг/м³

Вариант 2

1. Чай остыл. Как изменились его масса, объем, плотность?
2. Мопед «Рига – 16» весит 490 Н. Какова его масса? Изобразите вес тела на чертеже в выбранном масштабе.
3. С какой скоростью двигался автомобиль, если за 12 минут он совершил путь 3,6 км. Постройте график скорости.
4. Токарный станок массой 300 кг опирается на фундамент четырьмя ножками. Определите давление станка на фундамент, если площадь каждой ножки 50 см²
5. Определите среднюю мощность насоса, который подает воду объемом 4,5 м³ на высоту 5 м за 5 мин. Плотность воды 1000 кг/м³

Перечень учебно-методических средств обучения.

Основная и дополнительная литература:

- Гутник Е. М. Физика. 7 кл.: тематическое и поурочное планирование к учебнику А. В. Перышкина «Физика. 7 класс» / Е. М. Гутник, Е. В. Рыбакова. Под ред. Е. М. Гутник. – М.: Дрофа, 2002. – 96 с. ил.
- Кабардин О. Ф., Орлов В. А. Физика. Тесты. 7-9 классы.: Учебн.-метод. пособие. – М.: Дрофа, 2000. – 96 с. ил.
- Кривченко И. В. Сборник задач и вопросов по физике 7 класс. – Курск, 1999
- Лукашик В. И. Сборник задач по физике: Учеб пособие для учащихся 7-8 кл. сред. шк.
- Лукашик В. И. Физическая олимпиада в 6-7 классах средней школы: Пособие для учащихся.
- Минькова Р. Д. Тематическое и поурочное планирование по физике: 7-й Кл.: К учебнику А. В. Перышкина «Физика. 7 класс»/ Р. Д. Минькова, Е. Н. Панаиоти. – М.: Экзамен, 2003. – 127 с. ил.
- Перышкин А. В. Физика. 7 кл.: Учебник для общеобразовательных учеб. заведений. М.: Дрофа, 2008

Оценочные материалы для 8 класса

(Контрольная работа на предмет выживаемости знаний за курс физики 7 класса, проводим в начале года)

1. Вода испарилась и превратилась в пар. Как при этом изменилось движение и расположение молекул? Изменились ли при этом сами молекулы?
2. Борзая развивает скорость до 16 м/с. Какой путь она может преодолеть за 5 минут?
3. Найдите вес тела массой 800 г. Изобразите вес тела на чертеже в выбранном масштабе.
4. Какое давление оказывает мальчик массой 48 кг на пол, если площадь подошв его обуви 320 см²
5. Какая работа совершается при равномерном подъеме гранитной плиты объемом 2 м³ на высоту 3 м . Плотность гранита 2700 кг/м³

Вариант 2

1. Почему аромат духов чувствуется на расстоянии?
2. С какой скоростью движется кит, если для прохождения 3 км ему потребовалось 3 мин 20 с.
3. Найдите силу тяжести, действующую на тело массой 1,5 т. Изобразите силу тяжести на чертеже в выбранном масштабе.
4. На какой глубине давление воды в море равно 2060 кПа? Плотность морской воды 1030 кг/м³
5. Сколько времени должен работать насос мощностью 50 кВт, чтобы из шахты глубиной 150 м откачать воду объемом 200 м³ Плотность воды 1000 кг/м³

Контрольная работа № 1 по теме «Тепловые явления»

Вариант 1.

1. Стальная деталь массой 500 г при обработке на токарном станке нагрелась на 20 градусов Цельсия.. Чему равно изменение внутренней энергии детали? (Удельная теплоемкость стали

500 Дж/(кг С))

2. Какую массу пороха нужно сжечь, чтобы при полном его сгорании выделилось 38000 кДж энергии? (Удельная теплота сгорания пороха $3,8 \cdot 10^6$ Дж/кг)
3. Оловянный и латунный шары одинаковой массы, взятые при температуре 20 градусов Цельсия опустили в горячую воду. Одинаковое ли количество теплоты получают шары от воды при нагревании? (Удельная теплоемкость олова 250 Дж/(кг С), латуни 380 Дж/(кг С))
4. На сколько изменится температура воды массой 20 кг, если ей передать всю энергию, выделяющуюся при сгорании бензина массой 20 г? (Удельная теплоемкость воды 4200 Дж/(кг С), удельная теплота сгорания бензина $4 \cdot 10^7$ Дж/кг) Ответ: примерно 11 градусов

Вариант 2.

1. Определите массу серебряной ложки, если для изменения ее температуры от 20 до 40 градусов Цельсия требуется 250 Дж энергии. (Удельная теплоемкость серебра 250 Дж/(кг С))
2. Какое количество теплоты выделится при полном сгорании торфа массой 200 г? (Удельная теплота сгорания торфа $14 \cdot 10^6$ Дж/кг)
3. Стальную и свинцовую гири массой по 1 кг прогрели в кипящей воде, а затем поставили на лед. Под какой из гирь растает больше льда? (Удельная теплоемкость стали 500 Дж/(кг С), свинца 140 Дж/(кг С))
4. Какую массу керосина нужно сжечь, чтобы получить столько же энергии, сколько ее выделяется при сгорании каменного угля массой 500 г.
(Удельная теплота сгорания керосина $46 \cdot 10^6$ Дж/кг,

каменного угля $30 \cdot 10^6$ Дж/кг)

Контрольная работа №2 по теме «Изменение агрегатных состояний вещества»

Вариант 1

1. Расплавится ли нафталин, если его бросить в кипящую воду? Ответ обоснуйте. (Температура плавления нафталина 80 градусов Цельсия, температура кипения воды 100 градусов)
2. Найти количество теплоты необходимое для плавления льда массой 500 грамм, взятого при 0 градусов Цельсия. Удельная теплота плавления льда $3,4 \cdot 10^5$ Дж/кг
3. Найти количество теплоты, необходимое для превращения в пар 2 килограммов воды, взятых при 50 градусах Цельсия. Удельная теплоемкость воды 4200 Дж/(кг С), удельная теплота парообразования $2,3 \cdot 10^6$ Дж/кг,
4. За 1,25 часа в двигателе мотороллера сгорело 2,5 кг бензина. Вычислите КПД двигателя, если за это время он совершил $2,3 \cdot 10^7$ Дж полезной работы. Удельная теплота сгорания бензина $4,6 \cdot 10^7$ Дж / кг

Вариант 2.

1. Почему показание влажного термометра психрометра всегда ниже температуры воздуха в комнате?
2. Найти количество теплоты, необходимое для превращения в пар 200 г воды, взятой при температуре кипения. Удельная теплота парообразования воды $2,3 \cdot 10^6$ Дж/кг
3. Найти количество теплоты, необходимое для плавления льда массой 400 грамм, взятого при – 20 градусах Цельсия. Удельная теплота плавления льда $3,4 \cdot 10^5$ Дж/кг, удельная теплоемкость льда 2100 Дж/(кг С)

4. Определите полезную работу, совершенную двигателем трактора, если для ее совершения потребовалось 1,5 кг топлива с удельной теплотой сгорания $4,2 \cdot 10^6$ Дж/кг, а КПД двигателя 30 %

Контрольная работа №3. «ЭЛЕКТРИЧЕСКИЕ ЯВЛЕНИЯ»

Начальный уровень

ВАРИАНТ 1

1. Какой физической величиной пользуются для измерения напряжения?
2. Два медных провода одинакового сечения имеют различную длину. Как это различие сказывается на величине сопротивления проводников?
3. Какие опыты подтверждают, что лампы в квартире включены параллельно?

ВАРИАНТ 2

1. Какой физической величиной пользуются для измерения силы тока?
2. Что из себя представляет источник электрического тока? Приведите примеры.
3. Как изменится сила тока на участке цепи, если напряжение на концах участка в два раза увеличить?

Средний уровень

ВАРИАНТ 1

1. Каков физический смысл выражения удельное сопротивление нихрома составляет $1,1$ (Омм²)/м?»?
2. Какой ток течет через вольтметр, если его сопротивление 12 кОм и он показывает напряжение 120 В?
3. Какую работу совершил в проводнике электрический ток, если заряд, прошедший по цепи, равен $1,5$ Кл, а напряжение на концах этого проводника равно 6 В?

ВАРИАНТ 2

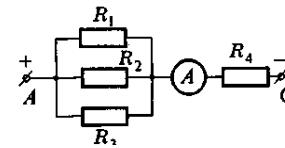
1. Сила тока в цепи составляет 2 А. Что это означает?
2. Какое напряжение надо создать на концах проводника сопротивлением 50 Ом, чтобы в нем возникла сила тока 2 А?
3. Сила тока в электрической лампе, рассчитанной на напряжение 110 В, равна $0,5$ А. Какова мощность тока в этой лампе?

Достаточный уровень

ВАРИАНТ 1

Зависит ли величина сопротивления проводника от напряжения на его концах? силы

Электрическая печь, сделанная из никелиновой проволоки длиной 56,25 м и сечением напряжением 120 В. Определите силу тока, протекающего по спирали.



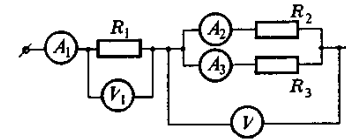
тока в нем? Объясните.

1,5 мм², присоединена к сети

Используя схему электрической цепи, изображенной на рисунке 1, определите общее напряжение на участке AC, если амперметр показывает 5 А, а $R_1=2\text{ Ом}$, $R_2=3\text{ Ом}$, $R_3=6\text{ Ом}$, $R_4=5\text{ Ом}$.

ВАРИАНТ 2

1. Имеются три проводника одинаковой длины и сечения. Один из них содержит чистую медь, а третий — сплав алюминия и меди. Какой из этих проводников сопротивлением и почему? Объясните.
2. Через алюминиевый проводник длиной 70 см и площадью поперечного сечения силой 0,5 А. Каково напряжение на концах этого проводника?
3. Участок цепи состоит из трех проводников: $R_1=20\text{ Ом}$, $R_2=10\text{ Ом}$, $R_3=15\text{ Ом}$. Определите показания вольтметров V1 и V2 и амперметров A1 и A2, если амперметр A3 показывает силу тока 2 А.



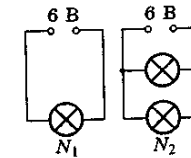
чистый алюминий, другой — обладает наибольшим

0,75 мм² протекает ток

Высокий уровень

ВАРИАНТ 1

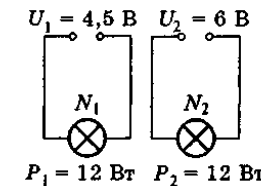
1. Две электрические лампочки рассчитаны на одинаковое напряжение, но имеют спирали какой из них течет больший ток?
2. В какой из ламп (N_1 или N_2), включенных так, как показано на рисунке 1, мощность электрического тока больше? Во сколько раз?
3. Сколько времени требуется для нагревания 2 кг воды от 20°C до 100°C в электрическом чайнике мощностью 600 Вт, если его КПД 80 %?



различную мощность. По рического тока больше? Во

ВАРИАНТ 2

1. Почему каждая из двух одинаковых электрических лампочек, включенных горит менее ярко, чем одна лампочка, включенная в сеть с тем же напряжением?
2. В какой из ламп (N_1 или N_2) сила тока больше? Какая из них имеет большее сопротивление?
3. Электрический кипятильник за 11 мин 12 с нагревает 2 кг воды от 20°C до кипения. нагревательного элемента кипятильника, по которому протекает ток силой 5 А, если выделившаяся в нем теплота пошла на нагревание воды.



последовательно в цепь,

сопротивление? Определите сопротивление считать, что вся

Контрольная работа. №4 «СВЕТОВЫЕ ЯВЛЕНИЯ»

Начальный уровень

ВАРИАНТ 1.

1. Угол падения луча равен 25° . Чему равен угол между падающим и отраженным лучами?
2. Фокусные расстояния трех линз соответственно равны 1,25 м; 0,5 м и 0,04 м. У какой линзы оптическая сила больше?
3. Какие очки предназначены для близорукого человека, а какие — для дальновзоркого, если оптические силы их линз таковы: +1 дптр; +2 дптр; -1,5 дптр; -2,5 дптр?

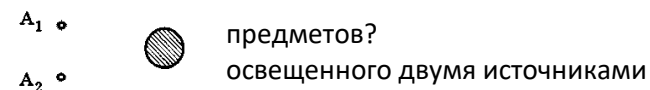
ВАРИАНТ 2

1. Угол между падающим и отраженным лучами составляет 60° . Под каким углом к зеркалу падает свет?
2. Оптическая сила линзы -2,5 дптр. Вычислите ее фокусное расстояние. Какая это линза — рассеивающая или собирающая?
3. Какие линзы (собирающие или рассеивающие) в очках, предназначенных для близоруких людей? Обоснуйте свой ответ.

Средний уровень

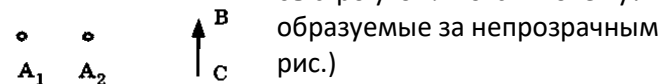
ВАРИАНТ 1

1. Чем отличается действительное изображение от мнимого?
2. Когда оптическая сила глаза больше: при рассмотрении удаленных или близких
3. Сделайте чертеж (см. рис.) и изобразите на нем тени и полутени от мяча, света A_1 и A_2 .



ВАРИАНТ 2

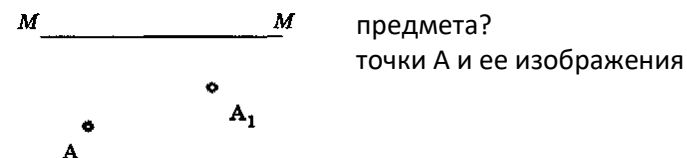
1. Расстояние от предмета до его изображения в плоском зеркале равно 80 см. Чему равно расстояние от предмета до зеркала?
2. Если читать книгу, держа ее очень близко или очень далеко от глаз, глаза быстро утомляются. Почему?
3. Перечертив рисунок в тетрадь, покажите на нем области тени и полутени, предметом ВС, который освещается двумя источниками света A_1 и A_2 (см. рис.)



Достаточный уровень

ВАРИАНТ 1

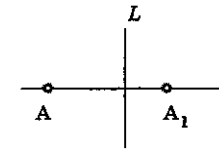
1. По какому признаку можно обнаружить, что вы оказались в полутени некоторого
2. На рисунке показаны положение оптической оси ММ тонкой линзы, светящейся A_1 . Найдите построением положения центра линзы и ее фокусов. Какая это линза?



3. В солнечный день длина тени на земле от человека ростом 1,8 м равна 90 см, а от дерева — 10 м. Какова высота дерева?

ВАРИАНТ 2

1. Как и почему меняются очертания тени и полутени человека, когда он удаляется вечером от фонаря уличного освещения?
2. Даны точки A и A_1 на оси линзы неизвестной формы. Определить вид линзы (собирающая или рассеивающая). Постройте фокусы линзы.
3. Предмет находится на расстоянии 40 см от собирающей линзы. Каким будет изображение предмета (действительным или мнимым, прямым или перевернутым, увеличенным или уменьшенным), если оптическая сила линзы 4 дптр?

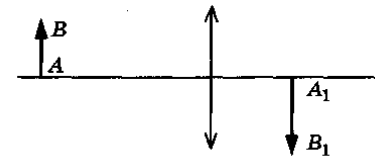


от фонаря уличного
(собирающая или рас-

Высокий уровень

ВАРИАНТ 1

1. Можно ли сказать, что изображение предмета в зеркале абсолютно
2. Объектив фотоаппарата имеет фокусное расстояние 10,5 см. На жон быть помещен предмет, чтобы снимок получился в 5 раз
3. Вы нашли очки. Предложите способ, с помощью которого можно дальнорукость у их владельца.
4. AB — предмет, A_1B_1 — изображение предмета, $(A_1B_1)/AB = 5$. Найти расстояние от предмета до линзы и от изображения до построением (см. рис.).




ему идентично (одинаково с ним)?
каком расстоянии от объектива дол-
меньше размера предмета?
определить, близорукость или

Оптическая сила линзы 40 дптр.
линзы. Расчёт проверить

ВАРИАНТ 2

1. Пузырьки воздуха, расположенные на стеблях и листьях подводных растений кажутся серебристо-зеркальными. Почему?
2. С какого расстояния был сделан фотоснимок электрички, если ствительная высота вагона 3 м? Фокусное расстояние объектива
3. Сидящие рядом дальнорукый и близорукый зрители пользуются зрителя трубка бинокля раздвинута больше?
4. На рисунке показан ход луча относительно главной оптической оси



высота вагона на снимке 9 мм, а дей-
фотоаппарата 15 см.
одинаковыми биноклями. У какого
тонкой линзы. Определите по-

Итоговый тест по физике для 8 класса

Анотация

Данный тест может использоваться в конце учебного года для контроля знаний учащихся. Он содержит задания разного уровня сложности. Время выполнения работы - 45 минут.

Структура теста: 2 варианта итоговой работы с выбором 1 правильного ответа, состоит из 17 заданий каждый. В заданиях части А необходимо выбрать правильный ответ; в части В записать формулу и выбрать правильный ответ; в части С записать подробное решение.

Распределение заданий по основным темам курса физики

№ п./п	Тема	Количество Заданий	Уровень сложности		
			А	В	С
1	Тепловые явления	3	2	1	-
2	Изменение агрегатных состояний вещества	3	2	-	1
3	Электрические явления	6	2	3	1
4	Электромагнитные явления	2	2	-	-
5	Световые явления	3	2	1	-
	Итого	17	10	5	2

Оценка тестирования:

одно задание из части А – 1 балл;

одно задание из части В – 2 балла;

одно задание из части С – 3 балла

Всего 26 баллов.

Критерии оценивания:

Часть В:

2 балла ставится в том случае, если правильно записана формула и правильно выбран ответ. Если выполнено одно из этих условий, то ставится **1 балл**.

Часть С:

За выполнение задания С учащийся получает **3 балла, если в решении присутствуют правильно выполненные следующие элементы:**

- правильно записаны необходимые для решения уравнения (законы);
- правильно выполнены алгебраические преобразования и вычисления, записан верный ответ.

задание оценивается 2 баллами, если

- сделана ошибка в преобразованиях или в вычислениях

или

- при верно записанных исходных уравнениях отсутствуют преобразования или вычисления.

задание оценивается 1 баллом, если

- сделана ошибка в одном из исходных уравнений

или

- одно из необходимых исходных уравнений отсутствует.

Во всех остальных случаях ставится оценка 0 баллов.

1 вариант

ИНСТРУКЦИЯ по выполнению итогового теста.

К каждому заданию дано несколько ответов, из которых только один верный ответ.

Часть А выберите один правильный ответ

1. Каким способом можно изменить внутреннюю энергию тела:

- а) нагреть его;
- б) поднять его на некоторую высоту;
- в) привести его в движение;
- г) изменить нельзя.

2. Какой вид теплопередачи сопровождается переносом вещества?

- а) теплопроводность;
- б) конвекция;
- в) излучение;
- г) всеми тремя способами перечисленными в ответах а-в.

3. Какая физическая величина обозначается буквой λ и имеет размерность Дж/кг?

- а) удельная теплоемкость;
- б) удельная теплота сгорания топлива;
- в) удельная теплота плавления;
- г) удельная теплота парообразования.

4. Испарение происходит...

- а) при любой температуре;
- б) при температуре кипения;
- в) при определенной температуре для каждой жидкости;
- г) при температуре выше $20\text{ }^{\circ}\text{C}$.

5. Если тела взаимно притягиваются, то это значит, что они заряжены ...

- а) отрицательно; б) разноименно; в) одноименно; г) положительно.

6. Сопротивление вычисляется по формуле:

а) $R=I/U$; б) $R = U/I$; в) $R = U \cdot I$; г) правильной формулы нет.

7. Из какого полюса магнита выходят линии магнитного поля?

- а) из северного;
- б) из южного;
- в) из обоих полюсов;
- г) не выходят.

8. Если электрический заряд движется, то вокруг него существует:

- а) только магнитное поле;
- б) только электрическое поле;
- в) и электрическое и магнитное поле;
- г) никакого поля нет.

9. Известно, что углы отражения световых лучей составляют 20° и 40° . Чему равны их углы падения?

- а) 40° и 80°
- б) 20° и 40°
- в) 30° и 60°
- г) 20° и 80°

10. Сколько фокусов имеет собирающая линза? Как они расположены относительно линзы?

- а) Два; на оптической оси симметрично по обе стороны линзы
- б) Один; на оптической оси перед линзой
- в) Один; на оптической оси за линзой
- г) Два; за линзой на разных расстояниях от нее

Часть В запишите формулу и выберите правильный ответ

11. Удельная теплоемкость кирпича $880 \text{ кДж} / (\text{кг} \cdot ^\circ\text{C})$. Какое количество теплоты потребуется для нагревания одного кирпича массой 1 кг на 1°C .

- а) 8800 Дж б) 880 кДж в) 880 Дж г) 88 Дж

12. Лампа, сопротивление нити накала которой 10 Ом, включена на 10 мин в цепь, где сила тока равна 0,1 А. Сколько энергии в ней выделилось.

- а) 1 Дж; б) 6 Дж в) 60 Дж; г) 600 Дж.

13. Сила тока в лампе 0,8 А, напряжение на ней 150 В. Какова мощность электрического тока в лампе? Какую работу он совершит за 2 мин ее горения?

- а) 120 Вт; 22,5 кДж б) 187,5 Вт; 14,4 кДж в) 1875 Вт; 14,4 кДж г) 120 Вт; 14,4 кДж

14. Два проводника сопротивлением $R_1 = 100$ Ом и $R_2 = 100$ Ом соединены параллельно. Чему равно их общее сопротивление?

- а) 60 Ом; б) 250 Ом; в) 50 Ом; г) 100.

15. Определите оптические силы линз, фокусные расстояния которых 25 см и 50 см.

- а) 0,04 дптр и 0,02 дптр; б) 4 дптр и 2 дптр в) 1 дптр и 2 дптр г) 4 дптр и 1 дптр

Часть С запишите решение задачи.

16. Сколько энергии израсходовано на нагревание воды массой 0,75 кг от 20 до 100 °С и последующее образование пара массой 250 г? (Удельная теплоемкость воды 4200 Дж / кг · °С, удельная теплота парообразования воды $2,3 \cdot 10^6$ Дж/кг)

17. Напряжение в железном проводнике длиной 100 см и сечением 1 мм² равно 0,3 В. Удельное сопротивление железа 0,1 Ом · мм²/м. Вычислите силу тока в стальном проводнике.

2 вариант

ИНСТРУКЦИЯ по выполнению итогового теста.

К каждому заданию дано несколько ответов, из которых только один верный ответ.

Часть А выберите один правильный ответ

1. Внутренняя энергия тел зависит от

- а) Теплового движения частиц, из которых состоит тело
- б) внутреннего строения
- в) количества молекул, входящих в состав тела
- г) потенциальной и кинетической энергии всех частиц тела

2. В вакууме энергия передается

- а) излучением;
- б) конвекцией;
- в) теплопроводностью;
- г) другим способом

3. Какая физическая величина обозначается буквой L и имеет размерность Дж/кг?

- а) удельная теплоемкость;
- б) удельная теплота сгорания топлива;
- в) удельная теплота плавления;
- г) удельная теплота парообразования.

4. При кристаллизации температура твёрдого тела ...

- а) увеличивается;
- б) уменьшается;
- в) не изменяется;
- г) зависит от массы тела.

5. Если заряженные тела взаимно отталкиваются, то это значит они заряжены ...

- а) отрицательно;

- б) разноименно;
- в) одноименно;
- г) положительно.

6. Сила тока вычисляется по формуле:

- а) $I = R/U$;
- б) $I = U/R$;
- в) $I = U \cdot R$;
- г) правильной формулы нет.

7. Что служит источником магнитного поля?

- а) электрический ток
- б) положительный электрический заряд
- в) отрицательный электрический заряд
- г) любой электрический заряд

8. Какие места постоянного магнита оказывают наибольшее магнитное действие? Как их называют?

- а) их концы; южный и северный полюсы
- б) находящиеся в середине магнита; полюсы
- в) все места оказывают одинаковое действие
- г) среди ответов нет правильного

9. Углы падения двух световых лучей на зеркальную поверхность равны 70° и 20° . Чему равны их углы отражения?

- а) 70° и 20°
- б) 20° и 70°
- в) 90° и 50°
- г) 50° и 90°

10. Есть ли фокусы у рассеивающей линзы?

- а) Нет, так как она отклоняет световые лучи от оптической оси
- б) Да, однако расположены они не симметрично относительно линзы
- в) Да, но они – мнимые, находятся по обе стороны линзы на равных от нее расстояниях
- г) Да, но один мнимый перед линзой на оптической оси

Часть В запишите формулу и выберите правильный ответ

11. Какое количество теплоты потребуется для нагревания 10 кг меди на 1°C ?

Удельная теплоемкость меди $400 \text{ Дж/кг} \cdot ^\circ\text{C}$.

а) 40 Дж; б) 400 Дж; в) 4000 Дж; г) 40000 Дж.

12. Проводник обладает сопротивлением 80 Ом. Какое количество теплоты выделится в нем за 10 с при силе тока 0,3 А?

а) 7,2 Дж; б) 72 Дж; в) 720 Дж; г) 72 кДж.

13. В проводнике сопротивлением 15 Ом сила тока равна 0,4 А. Какова мощность электрического тока в нем? Чему равна работа тока в этом проводнике, совершенная за 10 мин?

а) 2,4 Вт; 1,44 кДж б) 6 Вт; 3,6 кДж в) 6 Вт; 60 Дж г) 2,4 Вт; 24 Дж

14. Два проводника сопротивлением $R_1 = 150 \text{ Ом}$ и $R_2 = 100 \text{ Ом}$ соединены последовательно. Чему равно их общее сопротивление?

а) 60 Ом; б) 250 Ом; в) 50 Ом; г) 125 Ом.

15. Оптические силы линз равны 5 дптр и 8 дптр. Каковы их фокусные расстояния?

а) 2 м и 1,25 м б) 20 см и 12,5 см в) 2 см и 1,25 см г) 20 м и 12,5 м

Часть С запишите решение задачи

16. Сколько энергии выделится при кристаллизации и охлаждении от температуры плавления $327 \text{ }^\circ\text{C}$ до $27 \text{ }^\circ\text{C}$ свинцовой пластины размером $2 \cdot 5 \cdot 10 \text{ см}$? (Удельная теплота кристаллизации свинца $0,25 \cdot 10^5 \text{ Дж/кг}$, удельная теплоемкость воды $140 \text{ Дж/кг} \cdot ^\circ\text{C}$, плотность свинца 1130 кг/м^3).

17. Сила тока в стальном проводнике длиной 140 см и площадью поперечного сечения

$0,2 \text{ мм}^2$ равна 250 мА. Каково напряжение на концах этого проводника? Удельное сопротивление стали $0,15 \text{ Ом} \cdot \text{мм}^2/\text{м}$.

Оценочные материалы для 9 класса

Входная контрольная работа по физике. 9 класс.

Вариант I

А 1. Движущийся автомобиль обладает энергией...

1. только кинетической.
2. только потенциальной.
3. кинетической и потенциальной.
4. Кинетической и внутренней.

А 2. Каким способом теплопередачи Земля получает тепло от Солнца?

1. Конвекцией.
2. Теплопроводностью.
3. Излучением.
4. Всеми названными.

А 3. Как и на сколько изменится внутренняя энергия 1 кг воды при её нагревании на $0,5^{\circ}\text{C}$?

1. Повысится на 2100 Дж.
2. Уменьшится на 4200 Дж.
3. Не изменится.
4. Повысится на 4200 Дж.

А 4. Сравните внутренние энергии 1 кг расплавленного и 1 кг твёрдого олова при температуре плавления.

1. У твёрдого олова больше.
2. Больше внутренняя энергия расплавленного олова на величину удельной теплоты плавления.
3. Энергии одинаковые, т.к. одинаковые температуры.
4. Среди ответов нет правильного.

А 5. Как взаимодействуют наэлектризованная стеклянная палочка и незаряженная гильза?

1. Притягиваются.
2. Отталкиваются.
3. Не взаимодействуют.
4. Притягиваются, а после соприкосновения отталкиваются.

А 6. Три твёрдых тела одинаковой массы из одного и того же материала привели в соприкосновение. Температура первого тела 80°C , второго 40°C , а третьего 20°C . Укажите направление теплопередачи.

1. От первого к третьему.
2. От первого ко второму.
3. От первого к третьему и второму.
4. От первого к третьему и второму, от второго к третьему.

А 7. Как изменится показание амперметра, если к лампочке, включённой последовательно с амперметром, подключить такую же лампочку последовательно? Напряжение на участке цепи постоянно.

1. Не изменится.
2. Увеличится в 2 раза.

3. Уменьшится в 2 раза. 4. увеличится в 4 раза.

А 8. Рассеивающая линза дает изображение...

1. Только мнимое, перевёрнутое 2. Как действительное, так и мнимое.

3. Только действительное, прямое 4. Только мнимое и прямое.

В1. Угол падения света на поверхность зеркала 10° . Определите угол между плоскостью зеркала и отражённым лучом. Сделайте рисунок.

В2. Рассчитайте количество теплоты, необходимое для нагревания чугуна массой $1,5 \text{ кг}$ для изменения его температуры на $200 \text{ }^\circ\text{C}$. ($c = 540 \text{ Дж/кг}\cdot^\circ\text{C}$)

С1. Два проводника сопротивлением 3 Ом и 2 Ом соединены параллельно и подключены к источнику напряжением 6В . Определите общую силу тока и силу тока в каждом проводнике.

Входная контрольная работа по физике. 9 класс

Вариант II

А 1. Способы изменения внутренней энергии...

1. Теплопроводность. 2. Излучение.
3. Теплопередача и совершение работы. 4. Конвекция.

А 2. Количество теплоты, полученное телом при его нагревании, зависит от...

1. рода вещества. 2. массы и изменения температуры вещества.
3. плотности тела и изменения его температуры.
4. рода вещества, его массы и изменения температуры.

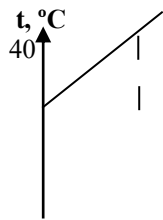
А 3. Какое количество теплоты необходимо для нагревания 2кг воды на 1°C ?

1. 1000Дж . 2. 4200Дж . 3. 8400Дж . 4. 840Дж .

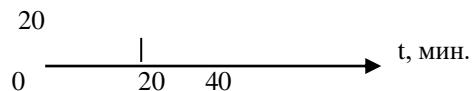
А 4. 1кг воды или 1кг льда при 0°C имеет большую внутреннюю энергию и на сколько больше?

1. лёд, на 340000 Дж . 2. вода, на 340000 Дж . 3. энергии одинаковые, так как одинаковая температура. 4. вода, на 4200Дж .

А 5. Через 20 минут нагревания воды спиртовка погасла. Какой могла бы стать температура воды через полчаса, если бы спиртовка продолжала гореть?



1) 60°C 2) 50°C 3) 45°C 4) 80°C



A 6. Вокруг положительного ядра атома любого химического элемента движутся...

1. электроны. 2. нейтроны. 3. протоны. 4. Протоны и нейтроны.

A 7. Для измерения силы тока и напряжения в электрической сети применяют приборы

1. амперметр, динамометр. 2. амперметр, трибометр.

3. вольтметр, омметр. 4. амперметр, вольтметр.

A 8. Проводник разрезали по длине на 3 равные части и концы скрутили. Как изменилось его сопротивление?

1. Не изменилось. 2. Увеличилось в 3 раза. 3. Уменьшилось в 9 раз.

4. Уменьшилось в 3 раза.

B1. Рассчитайте количество теплоты, необходимое для нагревания алюминиевой ложки массой 50 г от 20 до 90 0С. ($c = 920 \text{ Дж/кг}\cdot^{\circ}\text{C}$)

B2. Луч света падает на зеркало под углом 40° к его поверхности. Определите угол между падающим и отражённым лучами. Поясните рисунком.

C1. Определите силу тока в стальном проводнике длиной 100 м и площадью поперечного сечения 1 мм^2 , если напряжение на его концах 12 В.

Контрольная работа № 1

«Прямолинейное равномерное и равноускоренное движение» 9 класс

1 вариант

1. Велосипедист, двигаясь равномерно, проезжает 20 м за 2 с. Какой путь он проедет при движении с той же скоростью за 10 с?

2. Через 25 с после начала движения спидометр автомобиля показал скорость движения 36 км/ч. С каким ускорением двигался автомобиль?

3. Самолет для взлета должен приобрести скорость 240 км/ч. Какой должна быть длина взлетной полосы, если известно, что время разгона самолета равно 30 с?

4. Пуля, летящая со скоростью 400 м/с, ударяет в земляной вал и проникает в него на глубину $s = 36$ см. Определите, какое время она движется внутри вала.
5. Определите путь, пройденный катером, если он будет двигаться 10 с с постоянной скоростью 5 м/с, а затем 10 с с постоянным ускорением $0,5 \text{ м/с}^2$.

Контрольная работа № 1

«Прямолинейное равномерное и равноускоренное движение» 9 класс

2 вариант

1. Автомобиль, двигаясь равномерно, проехал 50 м за 2 с. Какой путь он проедет за 20 с, двигаясь с той же скоростью?
2. С каким ускорением должен затормозить автомобиль, движущийся со скоростью 36 км/ч, чтобы через 10 с остановиться?
3. Автомобиль, остановившись перед светофором, набирает затем скорость 54 км/ч на пути 50 м. С каким ускорением он должен двигаться? Сколько времени будет длиться этот разбег?
4. Двигаясь из состояния покоя, мотоциклист проходит 1 км пути с ускорением $0,8 \text{ м/с}^2$. Чему равно время разгона мотоциклиста и его скорость в конце этого пути?
5. Дистанцию 100 м спринтер преодолел за 10 с. Из них 2 с он потратил на разгон, а остальное время двигался равномерно. Чему равна скорость равномерного движения спортсмена?

Контрольная работа №2 «Законы динамики» 9 класс 1 вариант

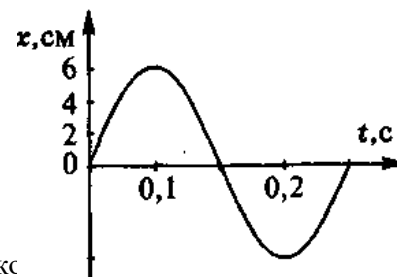
1. С каким ускорением двигался при разбеге реактивный самолет массой 50 т, если сила тяги двигателей 80 кН?
2. Чему равна сила, сообщающая телу массой 3 кг ускорение $0,4 \text{ м/с}^2$?
3. Автомобиль массой 2 т, движущийся со скоростью 90 км/ч, останавливается через 3 секунды после нажатия водителем педали тормоза. Чему равен тормозной путь автомобиля? Каково его ускорение? Чему равна сила торможения?
4. Определите силу давления пассажиров общей массой 150 кг на пол кабины лифта:
а) при спуске с ускорением $0,6 \text{ м/с}^2$; б)) при подъеме с тем же ускорением : в) при равномерном движении.
5. Автомобиль массой 1,5 т через 20 с после начала движения развил скорость 90 км/ч. Определите силу тяги автомобиля, если коэффициент трения равен 0,02.

Контрольная работа №2 «Законы динамики» 9 класс 2 вариант

1. Вагонетка массой 200 кг движется с ускорением $0,2 \text{ м/с}^2$. Определите силу, сообщающую вагонетке это ускорение.
2. Чему равно ускорение, с которым движется тело массой 3 кг, если на него действует сила 12 Н?
3. На автомобиль массой 2 т действует сила трения 16 кН. Какова начальная скорость автомобиля, если его тормозной путь равен 50 м?
4. Тело массой 5 кг лежит на полу лифта. Определите силу давления тела на пол лифта:
а) при равномерном движении; б) при спуске с ускорением 2 м/с^2 ; в) при подъеме с тем же по модулю ускорением.
5. Трамвай массой 20 т, отходя от остановки, на расстоянии 50 м развивает скорость 8 м/с. Определите силу тяги двигателей трамвая, если коэффициент трения равен 0,036.

Контрольная работа № 3 « Механические колебания и волны. Звук » 9 класс 1 вариант

1. По графику, приведенному на рисунке, найти амплитуду, период и частоту колебаний. Написать уравнение гармонических колебаний.



2. Определить период колебаний материальной точки, совершившей 50 полных кс

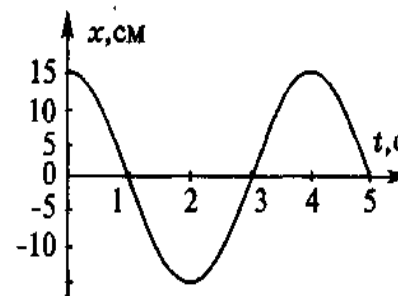
3. Найти массу груза, который на пружине жесткостью 250 Н/м делает 20 колебаний за 10 с.

4. Расстояние между ближайшими гребнями волн в море 6 м. Лодка качается на волнах, распространяющихся со скоростью 2 м/с. Какова частота ударов волн о корпус лодки.

5. Один математический маятник имеет период колебаний 3 с, а другой – 4 с. Каков период колебаний математического маятника, длина которого равна сумме длин указанных маятников?

Контрольная работа № 3 « Механические колебания и волны. Звук » 9 класс 2 вариант

1. По графику, приведенному на рисунке, найти амплитуду, период и частоту колебаний. Написать уравнение гармонических колебаний.



2. Материальная точка за 1 мин совершила 300 колебаний.

Определить период колебаний и частоту.

3. Математический маятник длиной 99,5 см за одну минуту совершал 30 полных колебаний. Определить период колебания

маятника и ускорение свободного падения в том месте,

где находится маятник.

4. Наблюдатель, находящийся на берегу озера, установил, что период колебания частиц воды равен 2 с, а расстояние между смежными гребнями волн 6 м. Определить скорость распространения этих волн.

5. Периоды колебаний двух математических маятников относятся как 2:3. Рассчитайте во сколько раз первый маятник длиннее второго.

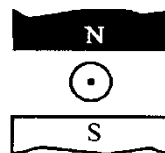
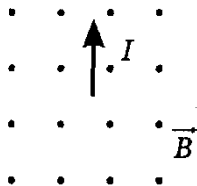
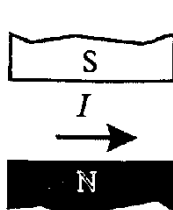
Контрольная работа № 4 « Электромагнитное поле» 9 класс 1 вариант

1. Радиостанция ведет передачи на частоте 70 МГц. Чему равна длина волны?

2. Определите силу тока, проходящему по прямолинейному проводнику, находящемуся в однородном магнитном поле с индукцией 10 Тл, если на активную часть проводника длиной 20 см, действует сила 20 Н. Проводник расположен перпендикулярно линиям магнитной индукции.

3. Протон движется в однородном магнитном поле с индукцией 5 мТл со скоростью 10000 км/с, направленной перпендикулярно линиям магнитной индукции. Определите силу, действующую на протон.

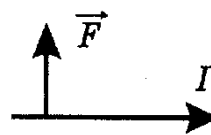
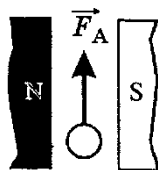
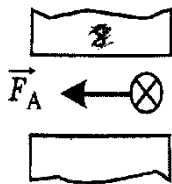
4. Сформулировать и решить задачу по рисунку



5. Электрон описывает в однородном магнитном поле окружность радиусом 4 мм. Скорость движения электрона равна $3,5 \cdot 10^6$ м/с. Определите индукцию магнитного поля.

Контрольная работа № 4 «Электромагнитное поле» 9 класс 2 вариант

1. Чему равна длина волн, посылаемых радиостанцией, работающей на частоте 1400 кГц?
2. В однородное магнитное поле, индукция которого 1,26 мТл, помещен проводник длиной 20 см перпендикулярно линиям магнитной индукции. Определите силу, действующую на проводник, если сила тока в нем 50 А.
3. Электрон влетает в однородное магнитное поле с индукцией 0,5 Тл со скоростью 20000 км/с перпендикулярно линиям магнитной индукции. Определите силу, с которой магнитное поле действует на электрон
4. Сформулировать и решить задачу по рисунку

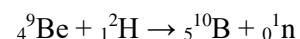
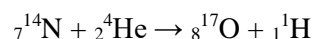


5. Электрон влетает в магнитное поле перпендикулярно линиям магнитной индукции со скоростью 10^7 м/с. Рассчитайте радиус кривизны траектории, по которой будет двигаться электрон, если индукция магнитного поля 5,6 мТл.

Контрольная работа № 5 «Строение атома и атомного ядра,

использование энергии атомных ядер» 9 класс 1 вариант

1. В ядре атома меди 63 частицы, из них 29 протонов. Сколько нейтронов и электронов находится в этом атоме?
2. Какой изотоп образуется из ${}_{92}^{239}\text{U}$ после двух β -распадов и одного α -распада?
3. При бомбардировке ядер железа нейтронами образуется β -радиоактивный изотоп марганца с массовым числом 56. Напишите реакцию получения искусственного радиоактивного марганца и реакцию происходящего с ним β -распада.
4. Найдите дефект масс и энергию связи ядра ${}_{3}^7\text{Li}$,
5. Найдите энергию, поглощенную или выделившуюся в результате реакций:




Контрольная работа № 5 «Строение атома и атомного ядра,

использование энергии атомных ядер» 9 класс 1 вариант

1. В ядре атома свинца 207 частиц. Вокруг ядра обращается 82 электрона. Сколько нейтронов и протонов в ядре этого атома?
2. Во что превращается изотоп тория ${}_{90}^{234}\text{Th}$, ядра которого претерпевают три последовательных α -распада?
3. Ядро изотопа магния с массовым числом 25 подвергается бомбардировке протонами. Ядро какого элемента при этом образуется, если ядерная реакция сопровождается излучением α -частиц?

4. Найдите дефект масс и энергию связи ядра ${}_{13}^{27}\text{Al}$.

5. Определить энергетический выход ядерной реакции



Ответы:

	1	2	3	4	5
К – 1 1 вариант	100 м	$0,4 \text{ м}\backslash\text{с}^2$	1020 м	0,002 с	125 м
К – 1 2 вариант	500 м	$-1 \text{ м}\backslash\text{с}^2$	7 с	50 с	$1,1 \text{ м}\backslash\text{с}$

К – 2 1 вариант	1,6 м\с ²	1,2 Н	-16600 Н	1410 Н 1590 Н 1500 Н	2175 Н
К – 2 2 вариант	40 Н	4 м\с ²	28 м\с	50 Н 40 Н 60Н	20 кН
К – 3 1 вариант	6см 0,25 с 4 Гц $X(t)=0,06\sin 8\pi t$	0,4 с	1,6 кг	0,3 Гц	6,3 м
К – 3 2 вариант	15 см 4 с 0,25 Гц $X(t)=0,15\cos 0,5\pi t$	0,2 с 5 Гц	9,8 м\с ²	3 м\с	В 2,25 раза

К – 4 1 вариант	4 м	10 А	$8 \cdot 10^{-15} \text{Н}$	Ф к нам, Фвправо, Фвправо	$5 \cdot 10^{-3} \text{Тл}$
К – 4 2 вариант	214 м	$1,2 \cdot 10^{-2} \text{Н}$	$1,6 \cdot 10^{-2} \text{Н}$	Северный полюс внизу, ток от нас, линии магнитной индукции к нам	0,01 м
К – 5 1 вариант	электронов-29 нейтронов-34	уран(235)	${}_1^1\text{H}$	0,0407 а.е.м. 37,91МэВ	$E_{\text{св}}=1,2\text{МэВ}$ $E_{\text{св}}=4,35\text{МэВ}$
К – 5 2 вариант	протонов-82 нейтронов-125	Полоний(222)	${}_{11}^{22}\text{Na}$	0,23524 а.е.м. 219,13МэВ	$E_{\text{св}}=5,48\text{МэВ}$

Итоговый тест по физике. 9 класс. Вариант -1.

Часть-А

Инструкция по выполнению заданий №А1-16: выберите букву, соответствующую правильному варианту ответа, и запишите её в бланк ответов.

1. Относительно какого тела или частей тела пассажир, сидящий в движущемся вагоне, находится в состоянии покоя?

- А. вагона.
- Б. земли.
- В. колеса вагона.

2. При равноускоренном движении скорость тела за 5 с изменилась от 10 м/с до 25 м/с. Определите ускорение тела.

- А. 4 м/с²; Б. 2 м/с²; В. -2 м/с²; Г. 3 м/с².

3. Дана зависимость координаты от времени при равномерном движении: $x=2+3t$. Чему равны начальная координата и скорость тела?

- А. $x_0=2$, $V=3$; Б. $x_0=3$, $V=2$; В. $x_0=3$, $V=3$; Г. $x_0=2$, $V=2$.

4. Тело движется по окружности. Укажите направление ускорения (рисунок 1).

- А. ускорения – 4;
- Б. ускорения – 1;
- В. ускорения – 2;
- Г. ускорения – 3.

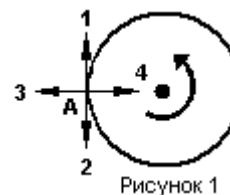


Рисунок 1

5. Под действием силы 10Н тело движется с ускорением 5м/с^2 . Какова масса тела ?

А. 2кг.

Б. 0,5 кг.

В. 50 кг.

Г. 100кг.

6. Земля притягивает к себе подброшенный мяч силой 3 Н. С какой силой этот мяч притягивает к себе Землю?

А. 30Н

Б. 3Н

В. 0,3Н

Г. 0Н

7. Какая из приведенных формул выражает второй закон Ньютона?

А. $F = G \frac{M}{R^2}$;

Б. $\vec{F} = m \cdot \vec{a}$;

В. $F = G \frac{m_1 m_2}{R^2}$;

Г. $F = -kx$.

8. Как направлен импульс силы?

А. по ускорению.

Б. по скорости тела.

В. по силе.

Г. Среди ответов нет правильного.

9. Тележка массой 2 кг движущаяся со скоростью 3м/с и сталкивается с неподвижной тележкой массой 4 кг и сцепляется с ней. Определите скорость обеих тележек после взаимодействия?

А. 1 м/с;

Б. 0,5 м/с;

В. 3 м/с;

Г. 1,5 м/с.

10. По графику зависимости координаты колеблющегося тела от времени (см. рисунок 2) определите амплитуду колебаний.

А. 10 м;

Б. 6 м;

В. 4 м;

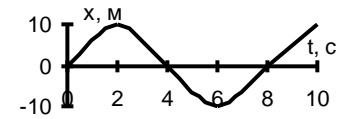


Рисунок 2

11. Камертон излучает звуковую волну длиной 0,5м. Какова частота колебаний камертона? Скорость звука в воздухе 340 м/с.

А. 680Гц;

Б. 170Гц;

В. 17Гц;

Г. 3400Гц.

12. Силовой характеристикой магнитного поля является:

А. магнитный поток; Б. сила, действующая на проводник с током;

В. вектор магнитной индукции.

13. Определите частоту электромагнитной волны длиной 3 м.

А. 10^{-8} Гц;

Б. 10^{-7} Гц;

В. 10^8 Гц;

Г. 10^{-6} Гц.

14. Сколько протонов содержит атом углерода ${}^{12}_6\text{C}$?

А. 18

Б. 6

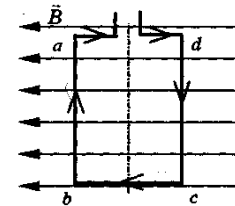
В. 12

15. Бетта- излучение- это:

А. поток квантов излучения; Б. поток ядер атома гелия

В. Поток электронов ;

16. Квадратная рамка расположена в однородном магнитном поле, как тока в рамке указано стрелками. Как направлена сила, действующая на магнитного поля?



показано на рисунке. Направление стороны *аб* рамки со стороны

А. Перпендикулярно плоскости чертежа, от нас

Б. Перпендикулярно плоскости чертежа, к нам

В. Вертикально вверх, в плоскости чертежа

Г. Вертикально вниз, в плоскости чертежа

ЧАСТЬ-В

Инструкция по выполнению заданий №В1-В2: соотнесите написанное в столбцах

1 и 2. Запишите в соответствующие строки бланка ответов последовательность

букв из столбца 2, обозначающих правильные ответы на вопросы из столбца 1. Например:

№ задания	Вариант ответа
В1	243

В1. Установите соответствие между физическими открытиями и учеными

Открытие

Ученый

- А) закон о передачи давления жидкостями и газами
- Б) закон всемирного тяготения
- В) открытие атмосферного давления

- 1) Паскаль
- 2) Торричелли
- 3) Архимед
- 4) Ньютон

В2. Установите соответствие между приборами и физическими величинами

Прибор	Физические величины
А) психрометр	1) давление
Б) манометр	2) скорость
В) спидометр	3) сила
	4) влажность воздуха

ЧАСТЬ С:

задание с развернутым решением, умение решить задачу на применение изученных тем, законов, физических величин.

С1. Транспортёр равномерно поднимает груз массой 190кг на высоту 9м за 50с. Сила тока в электродвигателе 1,5А. КПД двигателя составляет 60%. Определите напряжение в электрической сети.

Итоговый тест по физике. 9 класс. Вариант -2.

Часть-А

Инструкция по выполнению заданий №А1-16: выберите букву, соответствующую правильному варианту ответа, и запишите её в бланк ответов.

1. В каком из следующих случаев движение тела можно рассматривать как движение материальной точки?

А. Движение автомобиля из одного города в другой.

Б. Движение конькобежца, выполняющего программу фигурного катания.

В. Движение поезда на мосту.

Г. Вращение детали, обрабатываемой на станке.

2. При равноускоренном движении скорость тела за 6 с изменилась от 6 м/с до 18 м/с. Определите ускорение тела.

А. 4 м/с^2 ; Б. 2 м/с^2 ; В. -2 м/с^2 ; Г. 3 м/с^2 .

3. Из предложенных уравнений укажите уравнение равноускоренного движения.

А. $x=2t$; Б. $x=2+2t$; В. $x=2+2t^2$; Г. $x=2-2t$.

4. Тело движется по окружности. Укажите направление скорости (рисунок 1).

А. Скорости – 1

Б. Скорости – 3

В. Скорости – 4

Г. Скорости – 2

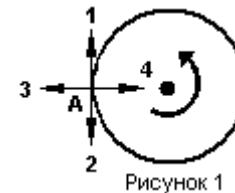


Рисунок 1

5. Как будет двигаться тело массой 4 кг, если равнодействующая всех сил, действующих на него равна 8 Н?

А. Равномерно прямолинейно.

Б. Равномерно со скоростью 2 м/с.

В. Равноускоренно с ускорением 2 м/с^2 . Г. Равноускоренно с ускорением $0,5 \text{ м/с}^2$.

6. Земля притягивает к себе тело массой 1,5 кг с силой:

- А. 1,5 Н; Б. 15 Н; В. 0,15 Н; Г. 150 Н.

7. Какая из приведенных формул выражает закон всемирного тяготения?

- А. $F = G \frac{M}{R^2}$; Б. $\vec{F} = m \cdot \vec{a}$; В. $F = G \frac{m_1 m_2}{R^2}$; Г. $F = -kx$.

8. Тело массой 2 кг движется со скоростью 5 м/с. Определите импульс тела. Как он направлен?

- А. 5 кг·м/с, импульс не имеет направления.
Б. 10 кг·м/с, в сторону, противоположную направлению скорости тела.
В. 10 кг·м/с, совпадает с направлением скорости тела.
Г. Среди ответов нет правильного.

9. Тело массой 3 кг движется со скоростью 7 м/с и сталкивается с покоящимся телом массой 4 кг. Определите скорость их совместного движения?

- А. 1 м/с; Б. 7 м/с; В. 3 м/с; Г. 4 м/с.

10. По графику зависимости координаты колеблющегося тела от времени (см. рисунок2) Определите период колебаний.

- А. 4 с;
Б. 6 с;
В. 8 с;

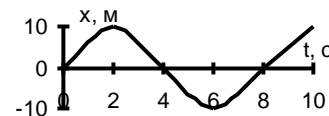


Рисунок 2

11. Чему равна длина звуковой волны, если ее частота 200 Гц? Скорость звука в воздухе 340 м/с.

А. 1,7 м; Б. 0,6 м; В. 0,7 м; Г. 17 м.

12. Электрический ток создает вокруг себя:

А. Электрическое поле; Б. Магнитное поле;

13. Определите период электромагнитной волны длиной 3 м.

А. 10^{-8} с; Б. 10^{-7} с; В. 10^8 с; Г. 10^{-6} с.

14. Каков состав ядра натрия :зарядовое число-11, массовое число- 23?

А. протонов23, нейтронов 12;

Б. протонов12, нейтронов 11;;

В. протонов11, нейтронов 12;

15. Какие элементарные частицы находятся в ядре атома?

А. Протоны;

Б. Протоны и нейтроны;

В. Электроны и протоны;

Г. Электроны и нейтроны.

16. Какая сила действует на протон, движущийся как показано на рисунке 4, со стороны магнитного поля? Куда она направлена?

А. Сила Лоренца, направлена вверх;

Б. Сила Ампера, направлена вверх;

В. Сила Лоренца, направлена вниз;

Г. Сила Ампера, направлена вниз.

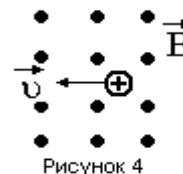


Рисунок 4

ЧАСТЬ-В

Инструкция по выполнению заданий №В1-В2: соотнесите написанное в столбцах

1 и 2. Запишите в соответствующие строки бланка ответов последовательность

букв из столбца 2, обозначающих правильные ответы на вопросы из столбца 1. Например:

№ задания	Вариант ответа
В1	243

В1. Установите соответствие между физическими величинами и единицами измерения в СИ:

Физические величины

- А) скорость
- Б) давление
- В) вес тела

Единицы измерения

- 1) Па
- 2) Дж
- 3) м/с
- 4) Н

5) км/ч

В2. Установите соответствие между приборами и физическими величинами с помощью которых их можно измерить:

Прибор

- А) термометр
- Б) барометр-анероид
- В) динамометр

Физические величины

- 1) давление
- 2) скорость
- 3) сила
- 4) температура

ЧАСТЬ С:

задание с развернутым решением, умение решить задачу на применение изученных тем, законов, физических величин.

C1. Стальной осколок , падая с высоты 470м, нагрелся на $0,5\text{ }^{\circ}\text{C}$ в результате совершения работы сил сопротивления воздуха. Чему равна скорость осколка у поверхности земли?

Удельная теплоемкость стали $460\text{Дж/кг }^{\circ}\text{C}$

